



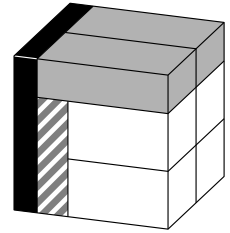




Фамилия и имя

.....

4. Миша сложил из восьми брусков куб (см. рис.). Все бруски имеют один и тот же объём, серые бруски одинаковые и белые бруски тоже одинаковые. Какую часть ребра куба составляют длина, ширина и высота белого бруска? **[7 баллов]**



.....

76880-93



1 проверка

2 проверка

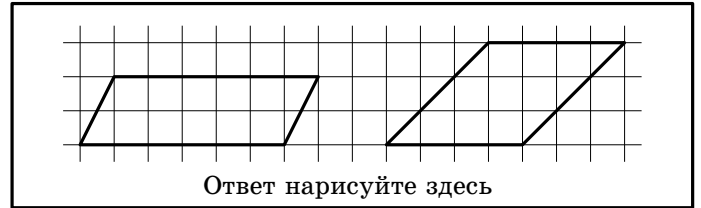
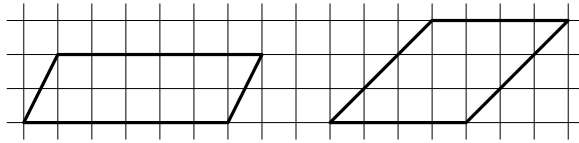
код аудитории



Фамилия и имя

.....

6. Разрежьте первый параллелограмм на три части и сложите из них второй. В ответе нарисуйте, как будут разделены на части оба параллелограмма. [9 баллов]



Large grid for drawing the answer.

76880-93



1 проверка

□ \_\_\_\_\_

2 проверка

□ \_\_\_\_\_

код аудитории

□