

**Задания отборочного этапа Московской олимпиады школьников по географии
2021-2022 учебного года для 6 кл. (1 вариант)**

Задание № 1

Перед Вами фрагмент китайской карты мира, изготовленной в 1602 г. (карта Маттео Риччи), на которой цифровыми индексами обозначены обособленные части Мирового океана. *Укажите цифровой индекс, под которым зашифрован водный объект с наименьшей средней глубиной. Назовите этот географический объект.*

Внимание! Если вы неверно указали цифровой индекс, то всё задание не оценивается.

Ответ запишите по образцу: 1_Средиземное море



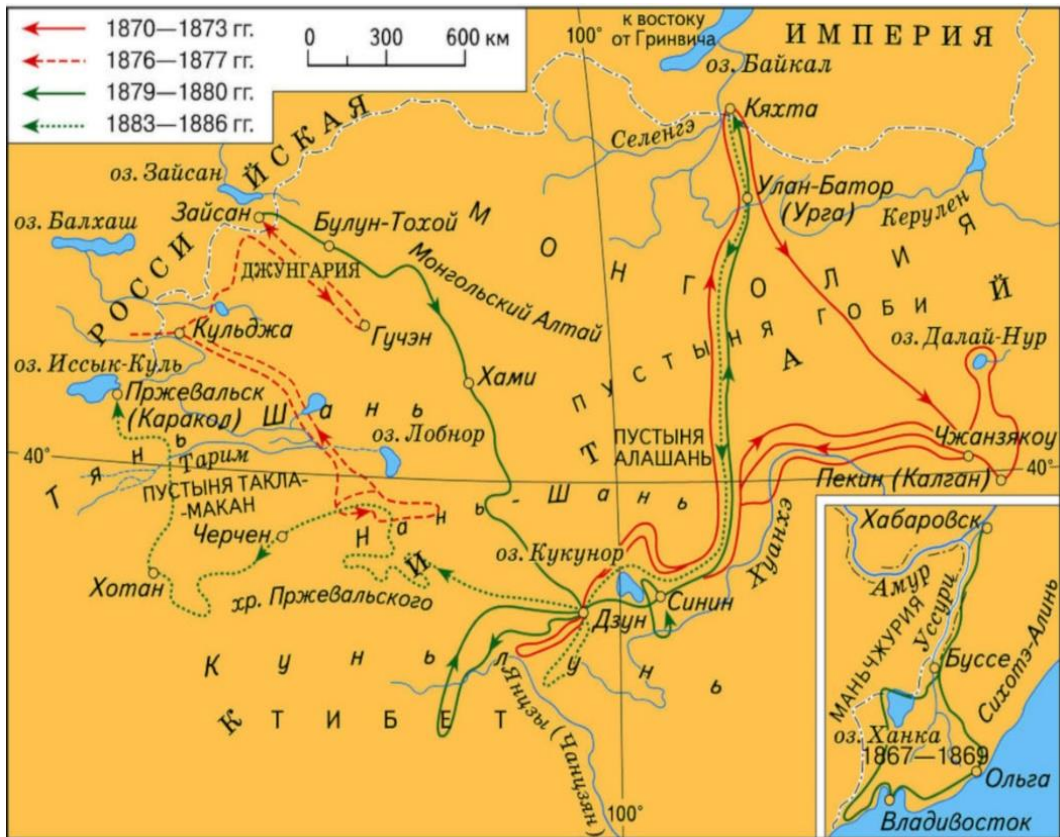
Задание № 2

Назовите **фамилию** известного датчанина, погибшего на острове открытого им архипелага, в честь которого названы пролив, море и островная дуга.

Задание № 3

Выберите номер картосхемы с маршрутами экспедиций выдающегося отечественного географа и путешественника, проводившего свои исследования в обширном субрегионе, значительная часть которого относится к области внутреннего стока. В честь исследователя названы горные хребты и горные вершины в районе его исследования, а также один из подвидов травоядного млекопитающего.

3)



4)

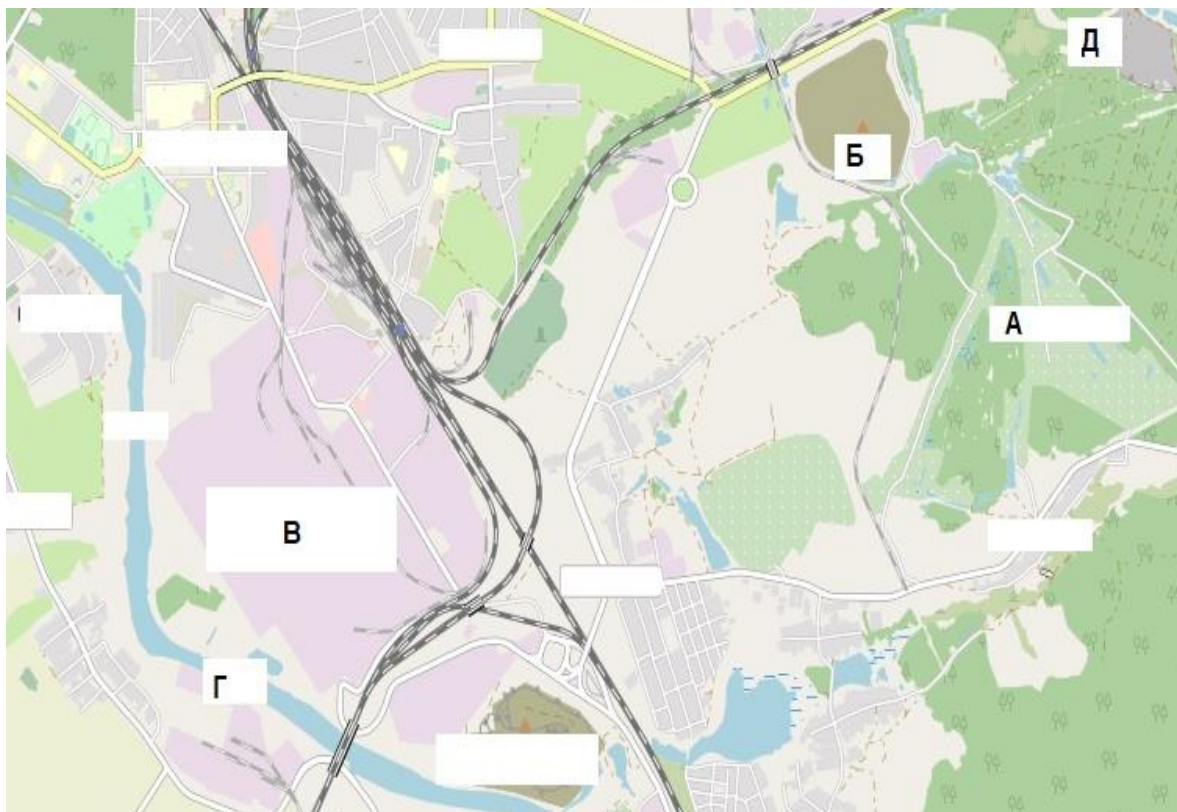


Задание № 4

Рассмотрите картографическое изображение.

Какие объекты (из списка ниже) соответствуют буквенным индексам «Б», «В», «Г», представленным на данном изображении?

Ответ запишите по образцу: Б-2_В-8_Г-9.



Перечень возможных объектов:

1. пруды, используемые для рыболовства и рыбоводства
2. болота
3. отвалы пустой породы, оставленные после разработки месторождения
4. территория промышленного предприятия
5. название реки и других водных объектов
6. территории бывших карьеров и промышленных предприятий
7. название населенного пункта
8. осушенные земли
9. территория аэродрома
10. территория садоводческого некоммерческого товарищества
11. производственно-складские помещения
12. лесные массивы
13. поля, луга, пашня, пастбища
14. моховая и лишайниковая растительность
15. солончаки

Задание № 5

Под юрисдикцию **какой страны**, расположенной на противоположном по отношению к экватору полушарии, попадает территория / акватория со следующими географическими координатами: 27°53' ю. ш. 143°30'з. д.? *Укажите название страны.*

Задание № 6

Укажите архипелаг, происхождение которого связано с деятельностью живых организмов:

- 1) Туамоту;
- 2) Новая Земля;
- 3) Зондские острова;
- 4) Новосибирские острова;
- 5) Алеутские острова

**Задания отборочного этапа Московской олимпиады школьников по географии
2021-2022 учебного года для 6 кл. (2 вариант)**

Задание № 1

Перед Вами фрагмент китайской карты мира, изготовленной в 1602 г. (карта Маттео Риччи), на которой цифровыми индексами обозначены обособленные части Мирового океана. *Укажите цифровой индекс, под которым зашифрован водный объект с наибольшей средней глубиной. Назовите этот географический объект.*

Внимание! Если вы неверно указали цифровой индекс, то всё задание не оценивается.

Ответ запишите по образцу: 1_Красное море



Задание № 2

Назовите **имя** мореплавателя скандинавского происхождения, основавшего первую колонию на острове, который в три с половиной раза меньше по площади Австралийского континента. Наступление глобального похолодания привело к упадку и исчезновению основанных колоний.

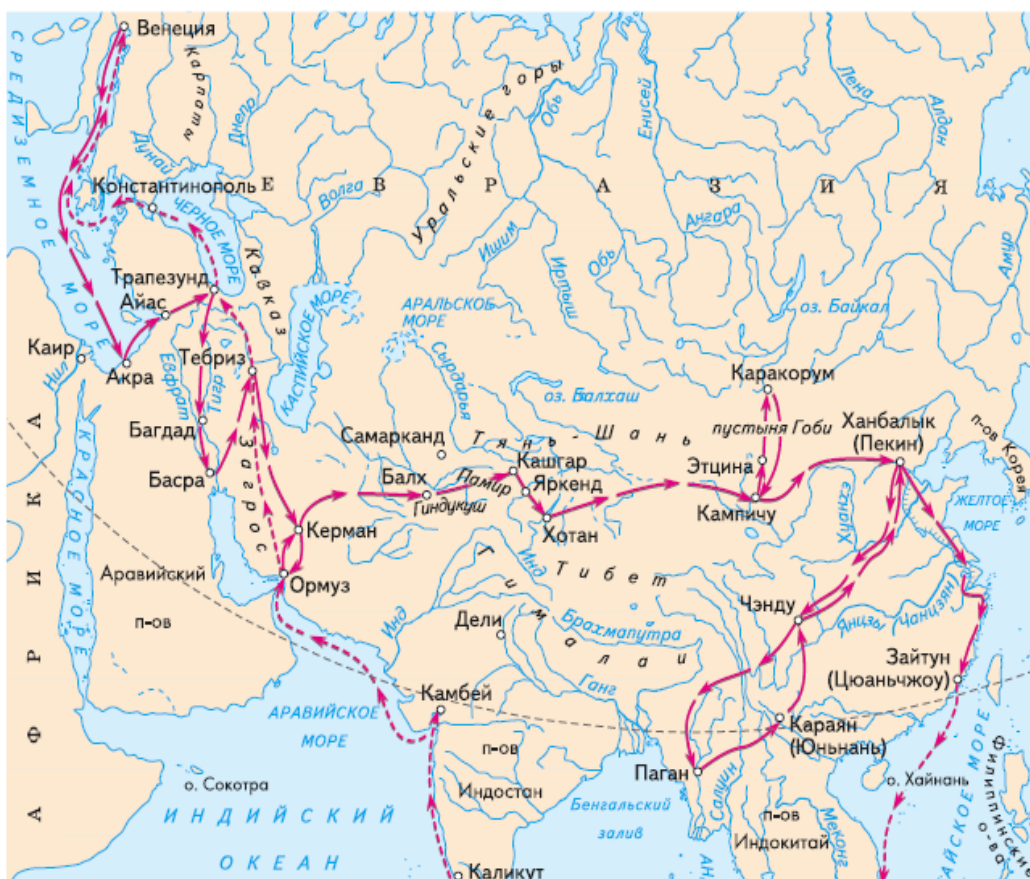
Задание № 3

Выберите номер картосхемы с маршрутами экспедиций выдающегося географа и исследователя. За выдающиеся успехи в изучении одного из регионов императорским указом к его фамилии была добавлена приставка с названием этой природной страны. Ученый был одним из организаторов первого в нашей стране статистического учёта населения.

1)



2)



Задание № 4

Рассмотрите картографическое изображение.

Какие объекты (из списка ниже) соответствуют буквенным индексам «А», «Б», «Г», представленным на данном изображении?

Ответ запишите по образцу: А-2_Б-3_Г-5.



Перечень возможных объектов:

1. пруды, используемые для рыболовства и рыбоводства
2. болота
3. отвалы пустой породы, оставленные после разработки месторождения
4. территория промышленного предприятия
5. название реки и других водных объектов
6. территории бывших карьеров и промышленных предприятий
7. название населенного пункта
8. осушенные земли
9. территория аэродрома
10. территория садоводческого некоммерческого товарищества
11. производственно-складские помещения
12. лесные массивы
13. поля, луга, пашня, пастбища
14. моховая и лишайниковая растительность
15. солончаки

Задание № 5

Под юрисдикцию **какой страны**, расположенной на противоположном по отношению к Гринвичскому меридиану полушарии, попадает территория / акватория со следующими географическими координатами: $9^{\circ}10'$ ю. ш. $171^{\circ}50'$ з. д.? *Укажите название страны.*

Задание № 6

Укажите архипелаг, происхождение которого связано с деятельностью живых организмов:

- 1) Шпицберген;
- 2) Филиппинские острова;
- 3) Маршалловы острова;
- 4) Фолклендские (Мальвинские) острова;
- 5) Канарские острова

**Задания отборочного этапа Московской олимпиады школьников по географии
2021-2022 учебного года для 6 кл. (3 вариант)**

Задание № 1

Перед Вами фрагмент китайской карты мира, изготовленной в 1602 г. (карта Маттео Риччи), на которой цифровыми индексами обозначены обособленные части Мирового океана. Укажите цифровой индекс, под которым зашифрован водный объект с наибольшей средней глубиной. Назовите этот географический объект.

Внимание! Если вы неверно указали цифровой индекс, то всё задание не оценивается.

Ответ запишите по образцу: 1_Средиземное море



Задание № 2

Назовите **фамилию** известного датчанина, погибшего на острове открытого им архипелага, в честь которого названы пролив, море и островная дуга.

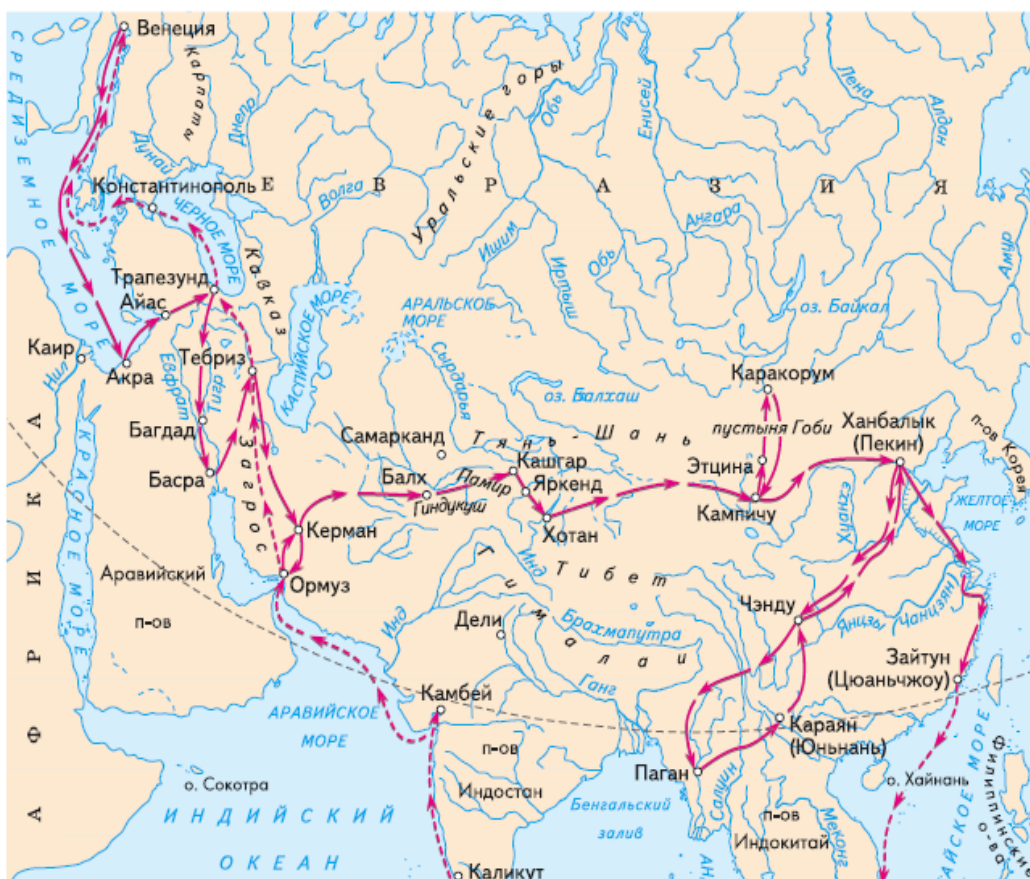
Задание № 3

Выберите номер картосхемы с маршрутами экспедиций выдающегося отечественного географа и путешественника, проводившего свои исследования в обширном субрегионе, значительная часть которого относится к области внутреннего стока. В честь исследователя названы горные хребты и горные вершины в районе его исследования, а также один из подвидов травоядного млекопитающего.

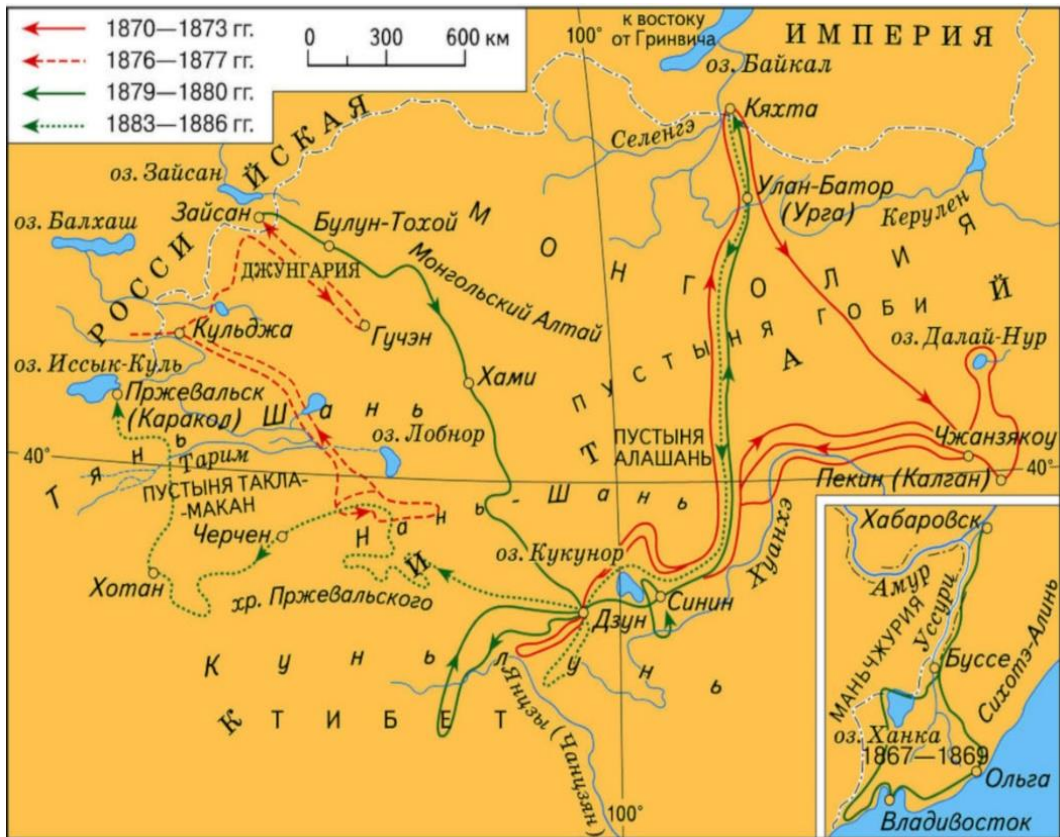
1)



2)



3)



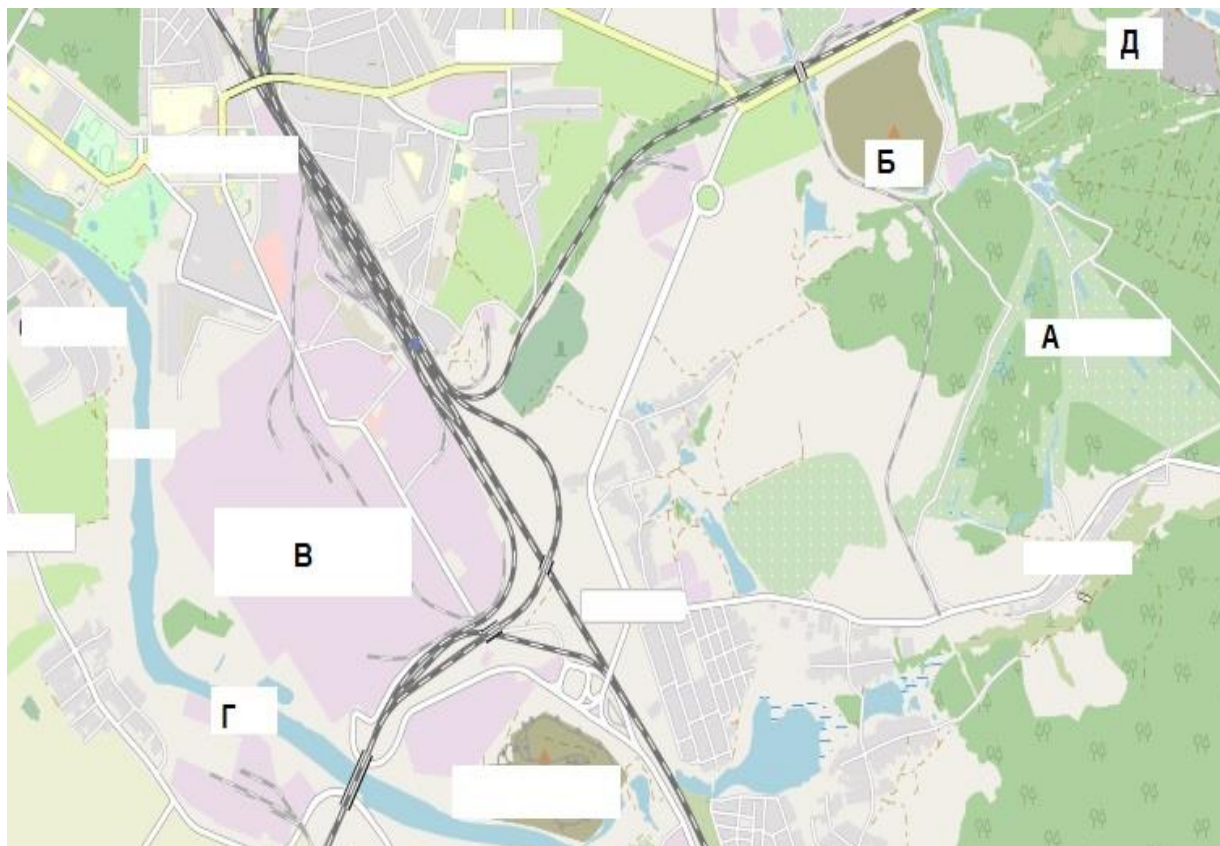
4)



Задание № 4

Опираясь на представленный ниже перечень объектов, соотнесите их с буквенными индексами «Б», «В» «Г», представленными на данном картографическом изображении (т.е. каким объектам в реальности соответствуют указанные в задании буквенные индексы?).

Ответ запишите по образцу: Б-2_В-8_Г-9



Перечень возможных объектов:

1. пруды, используемые для рыболовства и рыбоводства
2. болота
3. отвалы пустой породы, оставленные после разработки месторождения
4. территория промышленного предприятия
5. название реки и других водных объектов
6. территории бывших карьеров и промышленных предприятий
7. название населенного пункта
8. осушенные земли
9. территория аэродрома
10. территория садоводческого некоммерческого товарищества
11. производственно-складские помещения
12. лесные массивы
13. поля, луга, пашня, пастбища
14. моховая и лишайниковая растительность
15. солончаки

Задание № 5

Под юрисдикцию **какой страны** попадает территория / акватория со следующими географическими координатами: 29°01' ю. ш. 167°56' в.д.? *Укажите название страны.*

Задание № 6

Укажите архипелаг, происхождение которого связано с деятельностью живых организмов:

- 1) Земля Франца-Иосифа;
- 2) Марианские острова;
- 3) Фолклендские (Мальвинские) острова;
- 4) Малые Зондские острова;
- 5) Туамоту

**Задания отборочного этапа Московской олимпиады школьников по географии
2021-2022 учебного года для 6 кл. (4 вариант)**

Задание № 1

Перед Вами фрагмент китайской карты мира, изготовленной в 1602 г. (карта Маттео Риччи), на которой цифровыми индексами обозначены обособленные части Мирового океана. *Укажите цифровой индекс, под которым зашифрован водный объект с наименьшей средней глубиной. Назовите этот географический объект.*

Внимание! Если вы неверно указали цифровой индекс, то всё задание не оценивается.

Ответ запишите по образцу: 1_Красное море



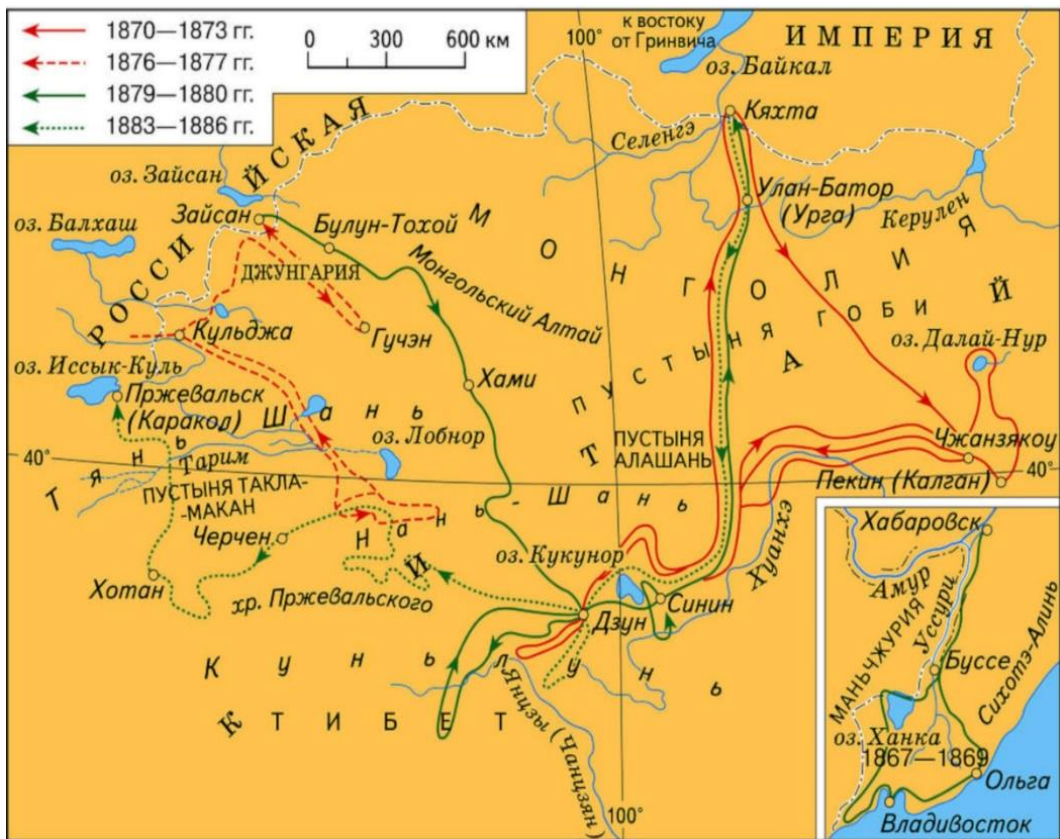
Задание № 2

Назовите **имя** мореплавателя скандинавского происхождения, основавшего первую колонию на острове, который в три с половиной раза меньше по площади Австралийского континента. Наступление глобального похолодания привело к упадку и исчезновению основанных колоний.

Задание № 3

Выберите номер картосхемы с маршрутами экспедиций выдающегося географа и исследователя. За выдающиеся успехи в изучении одного из регионов императорским указом к его фамилии была добавлена приставка с названием этой природной страны. Ученый был одним из организаторов первого в нашей стране статистического учёта населения.

3)



4)



Задание № 4

Рассмотрите картографическое изображение.

Какие объекты (из списка ниже) соответствуют буквенным индексам «А», «Б», «Г», представленным на данном изображении?

Ответ запишите по образцу: А-2_Б-3_Г-5.



Перечень возможных объектов:

1. пруды, используемые для рыболовства и рыбоводства
2. болота
3. отвалы пустой породы, оставленные после разработки месторождения
4. территория промышленного предприятия
5. название реки и других водных объектов
6. территории бывших карьеров и промышленных предприятий
7. название населенного пункта
8. осушенные земли
9. территория аэродрома
10. территория садоводческого некоммерческого товарищества
11. производственно-складские помещения
12. лесные массивы
13. поля, луга, пашня, пастбища
14. моховая и лишайниковая растительность
15. солончаки

Задание № 5

Под юрисдикцию **какой страны** попадает территория / акватория со следующими географическими координатами: 14°16' ю. ш. 170°42' з. д.? *Укажите название страны.*

Задание № 6

Укажите архипелаг, происхождение которого связано с деятельностью живых организмов:

- 1) Новая Земля;
- 2) Тувалу;
- 3) Зондские острова;
- 4) Бисмарка;
- 5) Филиппинские острова