

Московская олимпиада школьников по истории, 2020-2021 учебный год. 6 класс

4 дек 2020 г., 00:00 – 30 дек 2020 г., 23:59

№ 1

2 балла

Один ученый самоучка поверил в древнегреческие мифы и нашел античное золото. Другой представитель этой науки нашел берестяные грамоты в Новгороде. Многие представители этой же профессии, связанной со вспомогательной исторической дисциплиной, и по сей день каждое лето вносят свой вклад в изучение истории России, а, например, специалисты по истории Египта вносят его практически круглогодично. Назовите эту науку.

Ответ

№ 2

2 балла

Эту эпоху в древнейшей истории Ближнего Востока, Передней Азии, Египта и некоторых регионов Центральной (Средней) Азии чаще всего называют смещением «запада и востока» - действительно, удивительным образом в устройстве разрозненных государств, появившихся в одном столетии, уживались западные и восточные традиции. Вспомнив название этой эпохи, назовите выдающегося полководца древности, благодаря походам которого эта эпоха и началась. Укажите имя и прозвище этого полководца.

Ответ

№ 3

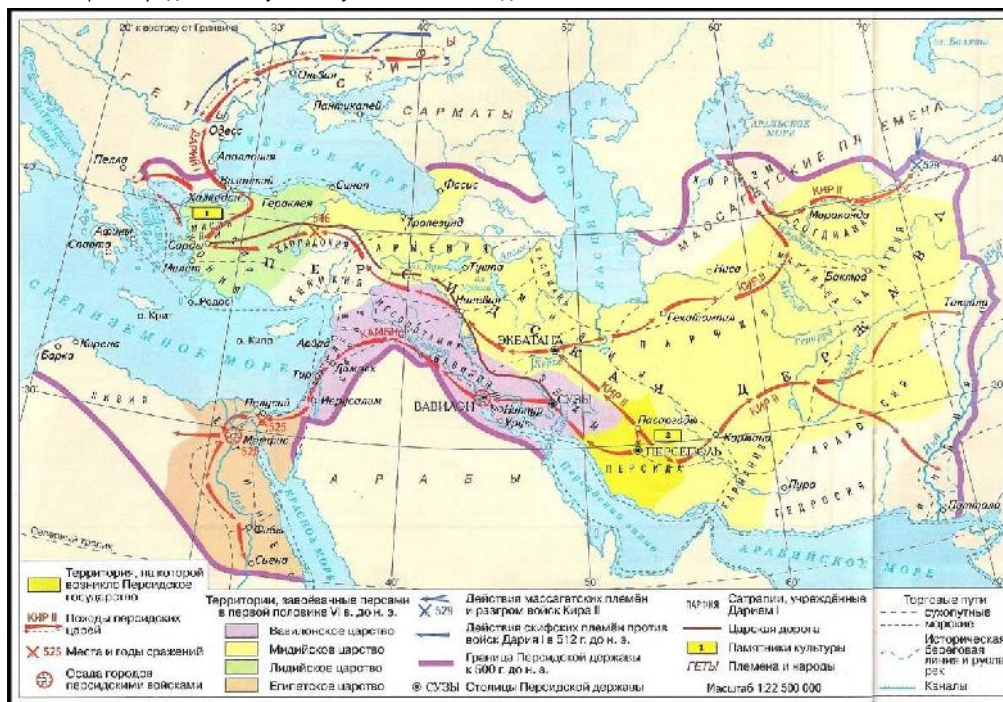
2 балла

Более двух тысяч лет существует знак «*» - он появился еще до нашей эры в трудах Александрийской библиотеки. В честь этого знака был назван известный герой массовой культуры (комиксов, мультфильмов, фильмов и т.д.), придуманный во Франции во второй половине XX века. Назовите известного римского полководца, покорившего народ, к которому принадлежал этот герой.

Ответ

2 балла

Рассмотрите представленную схему и выполните задание.

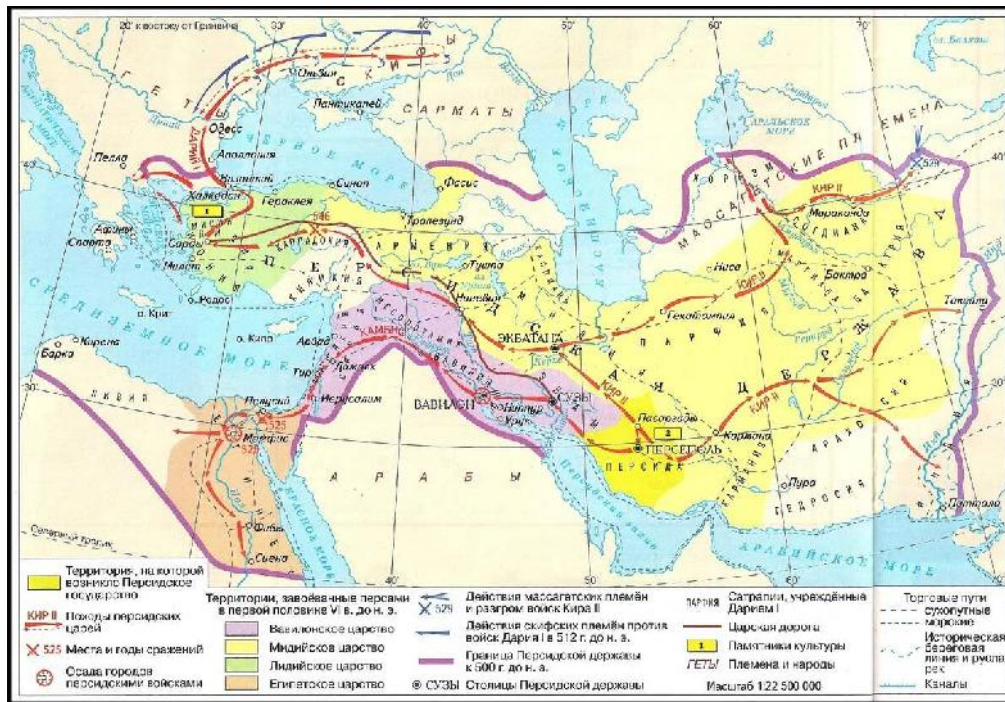


Выберите верные суждения, относящиеся к представленной схеме.

- Согласно представленной схеме, в состав Персидской державы вошла территория, где была придумана клинопись.
- Согласно представленной схеме, в состав Персидской державы не вошла территория, называемая «плодородным полумесяцем».
- На представленной схеме видно, что персы успешно захватили столицу будущего Македонского царства.
- На представленной схеме не указано название моря, воды которого, согласно Ветхому завету, расступились перед Моисеем.
- Часть территорий, отмеченных на схеме, в будущем войдет в состав Римской империи.

2 балла

Рассмотрите представленную схему и выполните задание.



На схеме обозначен город, в котором, согласно преданию, произошло огромное собрание людей, собравшихся для некоего масштабного строительного проекта. Само собрание людей в этом городе стало нарицательным.

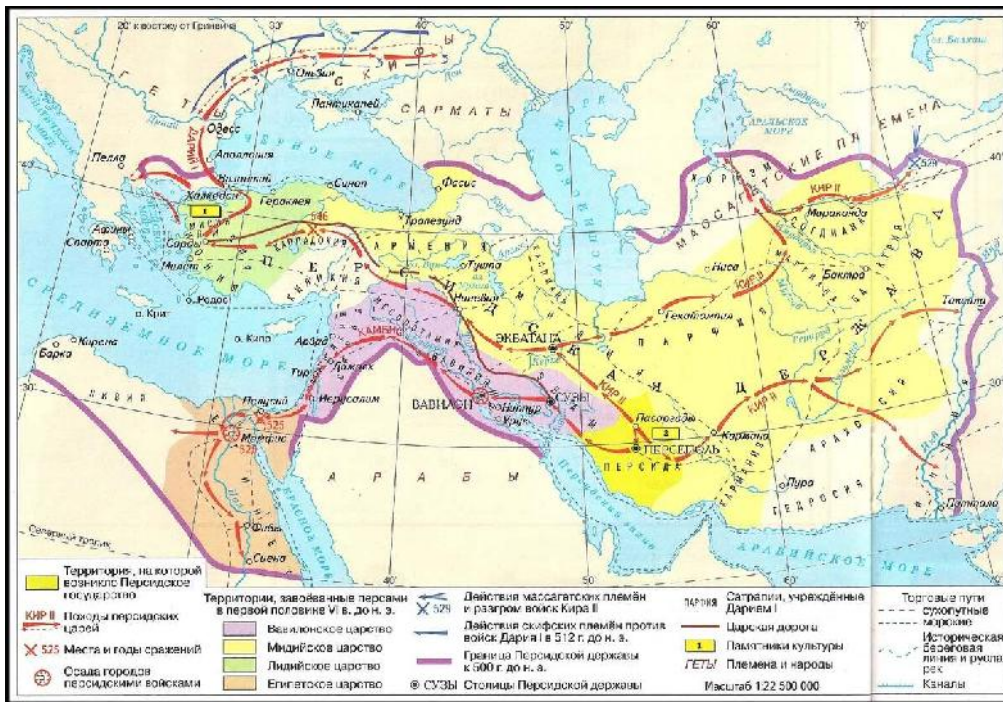
Укажите название этого города.

Ответ

№ 6

2 балла

Рассмотрите представленную схему и выполните задание.



Укажите современное название города, входящего сейчас в состав России и отмеченного на представленной схеме.

Ответ

№ 7

2 балла

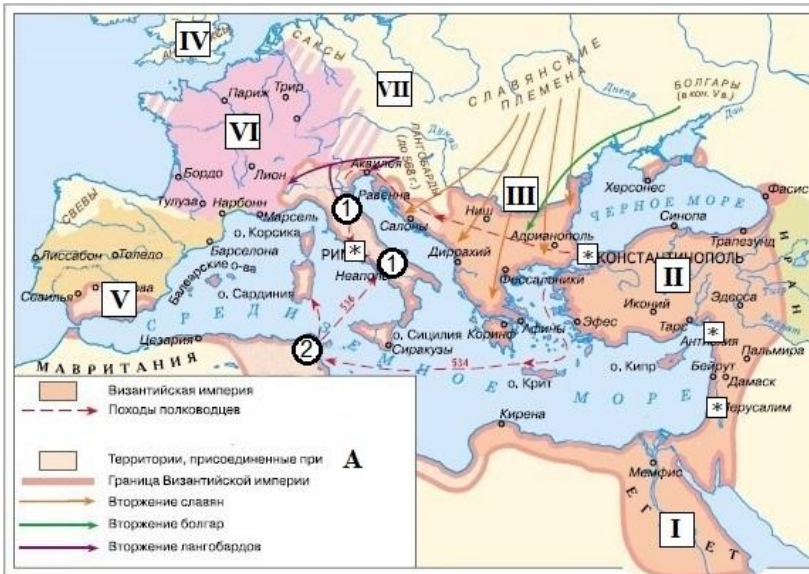
Этот государственный орган власти был создан еще при первом римском царе, но пережил и Царский Рим, и республику, и империю – и вообще всю римскую цивилизацию. Более того – орган власти с таким же названием существовал и в России.

Укажите название этого органа власти.

Ответ

2 балла

Рассмотрите представленную схему и выполните задание.

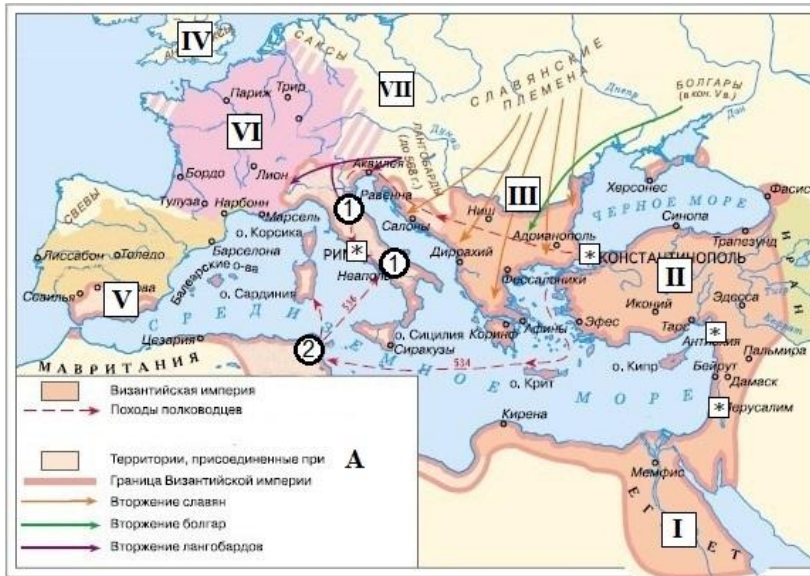


Назовите имя императора, обозначенное в легенде схемы буквой «А».

Ответ

2 балла

Рассмотрите представленную схему и выполните задание.

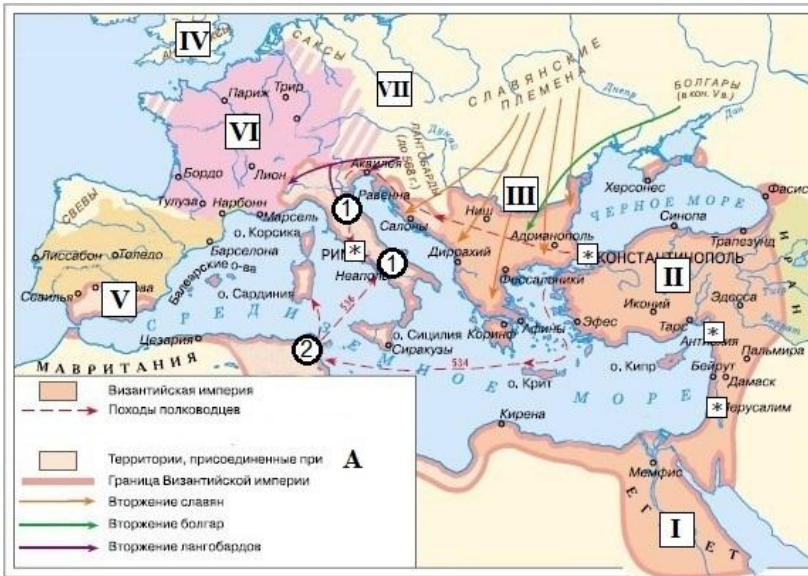


Укажите название крупнейшего государства, располагавшегося на территории полуострова, отмеченного цифрами «1» и исчезнувшего в результате военных действий, отраженных на схеме. Заполните пропуск в предложении: «Исчезло королевство ____».

Ответ

2 балла

Рассмотрите представленную схему и выполните задание.

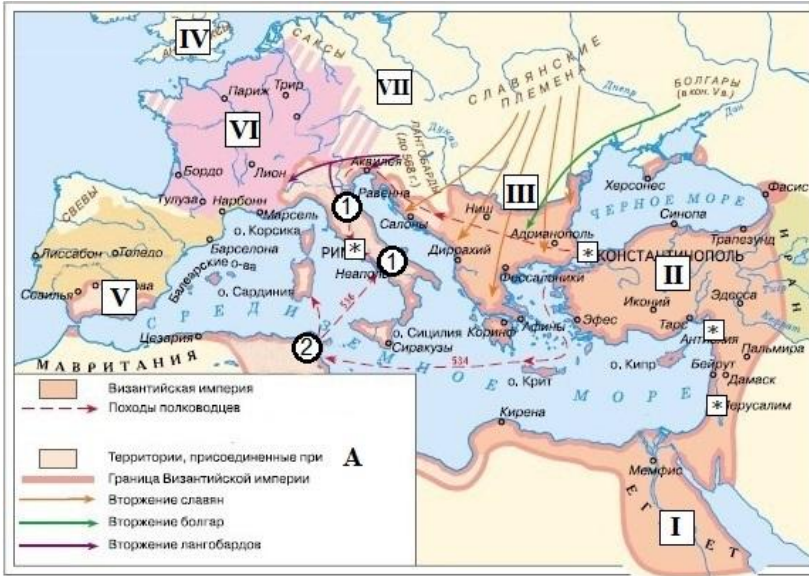


Четыре города на представленной схеме отмечены знаком «*». Все они объединены общим историко-религиозным прошлым. Назовите пятый город, который также в описанную эпоху должен был быть отмечен знаком «*», однако названия этого города даже нет на представленной схеме (хотя место, где он расположен – присутствует).

Ответ

2 балла

Рассмотрите представленную схему и выполните задание.



Цифрой «2» на представленной схеме отмечена территория, где располагалось известное государство древнего мира. Выберите из списка фразы, связанные с его взаимоотношениями с Римом.

«Карфаген должен быть разрушен».

«Ганнибал у ворот!»

«И ты Брут!»

«Я знаю, что ничего не знаю»

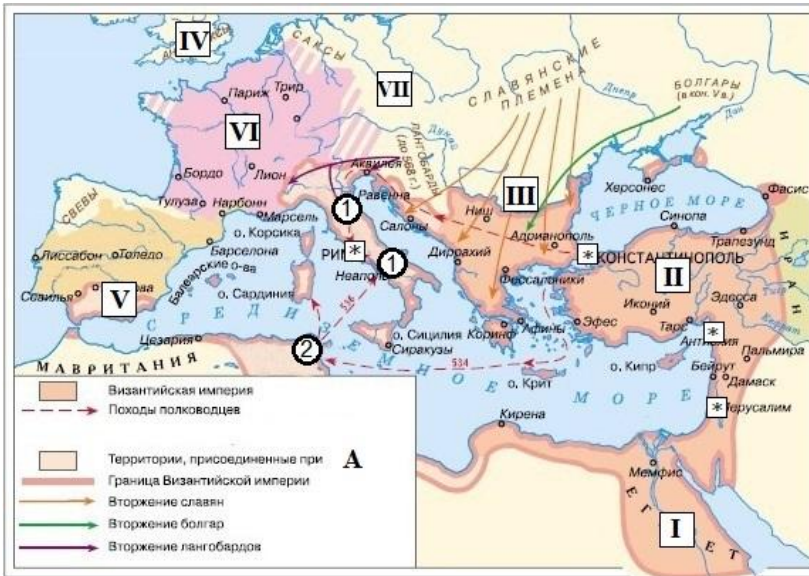
«Жребий брошен!»

«Со щитом или на щите»

№ 12

2 балла

Рассмотрите представленную схему и выполните задание.



Выберите на представленной схеме римскую цифру, обозначающую территорию, которая никогда не входила в состав Римской империи.

Ответ

№ 13

2 балла

Какой из представленных ниже терминов изначально нес негативную оценку, а не обозначал вполне нейтрально определенные исторические и властные реалии? Выберите верный ответ.

тиран

деспот

узурпатор

конунг

диктатор

декан

№ 14

2 балла


Сатирически о них говорили, что смысл их научных изысканий – в поиске ответов на вопросы вроде «сколько ангелов может поместиться на кончике пера». Тем не менее, безотносительно их религиозных воззрений – представители этого философского направления внесли огромный вклад в развитие фундаментальной науки – и, кроме того, образования.

Укажите название этого средневекового философского направления.

Ответ

2 балла

Из представленных изображений выберите те, которые связаны (в том числе и сюжетно) с историей средневековой Европы.











6 баллов

Прочтите фрагмент из исторического источника и выполните предложенные задания.

«И вот, не знаю почему, бог был к нам неблагосклонен, и неожиданно из восточных краев люди неизвестного племени предприняли дерзкий поход на страну и легко, без боя, взяли ее штурмом. И, победив ее правителей, они безжалостно сожгли города и разрушили до основания храмы богов, а с населением обращались самым враждебным образом, одних убивая, у других уводя в рабство детей и жен. Наконец, они сделали царем одного из своих, имя которого было Салитис. И он обосновался в Мемфисе, собирая налог с Верхней и Нижней страны и оставив гарнизоны в самых подходящих местах. Особенно укрепил он восточные области, предвидя, что ассирийцы, в то время более сильные, пожелают напасть на его царство. А найдя в номе Сетроите чрезвычайно удобно расположенный город, находящийся на восток от реки Бубастиса, именуемый, по какому-то древнему религиозному преданию, Аварис, он отстроил его и очень хорошо укрепил стенами, вселив туда также, для охраны, множество гоплитов, около двухсот сорока тысяч человек. Сюда он приезжал летом, то для раздачи провианта, то для проведения войсковых смотров, на страх иноземцам. Проществовав двенадцать лет, он скончался». А после него сорок четыре года царствовал другой, именуемый Бнон, после него – другой, Апахнан, тридцать шесть лет и семь месяцев, а затем Апопис, шестьдесят один год, и Ианнас, пятьдесят лет и один месяц, а после всех – Ассис, сорок девять лет и два месяца. И эти шестеро стали их первыми правителями; они постоянно и все больше жаждали искоренить завоеванный род. А все их племя называлось Гиксос, т.е. «цари-пастухи», ибо «гик» на священном языке означает «царь», а «сое» на общем наречии – «пастух» и «пастухи», и так получается составное «Гиксос». Некоторые же говорят, что это были арабы. А в другой копии наименованием «гик» не обозначаются «цари», но, напротив, объясняется «пленники-пастухи»: ибо, действительно, на языке завоеванной страны «гик» и «гак», произносимое с густым придыханием точно означает «пленники». И это кажется мне более вероятным и согласующимся с древней историей. Эти вышеперечисленные цари, так называемых Пастухов, и их потомки, говорит Манефон, правили Египтом около пятисот одиннадцати лет. А после этого, говорит он, цари Фиваиды и остального Египта подняли восстание против Пастухов, и вспыхнула великая многолетняя война...»

16.

Назовите государство, истории которого посвящен приведенный отрывок.

Ответ

17.

Выберите верные утверждения о представленном источнике и информации, содержащейся в нем.

- Из текста можно сделать вывод, что его автор являлся греком.
- В своем сочинении автор использует другие научные дисциплины для подтверждения своих теорий.
- События, описанные в источнике, произошли в нашу эру.
- В источнике автор ссылается на позиции других древних исследователей.
- В среднем, согласно мнению автора текста, гиксосские цари правили менее 30 лет каждый.

- В источнике автор упоминает народ, в столице государства которого располагалась крупнейшая библиотека клинописных текстов в Древнем мире.

18.

Выберите изображения, связанные с историей государства, о покорении которого говорится в представленном источнике.



