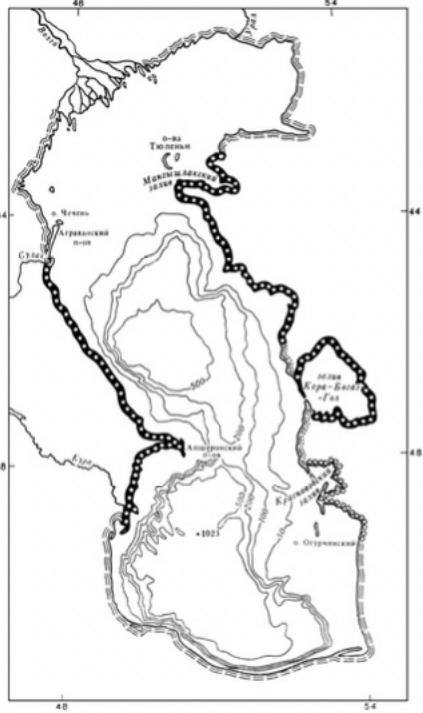




**Задание 1.**

Заполните пропуск в таблице и внесите пропущенное слово в поле для ответа.

| Старое название | Карта  |
|-----------------|--|
| Хвалисское море |    |
| Русское море    |  |
| ? море          |  |

Ответ: балтийское (варяжское)

**Задание 2.**

Перед вами – предмет, найденный археологами.  
Отметьте, для чего он предназначался, выбрав вариант из представленного списка.



1. Предмет культа, обряда
2. Дощечка, куда заливался воск и тренировались навыки письма
3. Предмет домашнего обихода – вид небольшого корытца
4. Небогатая риза (оклад вокруг иконы) бедной сельской церкви

Ответ: [2]

### Задание 3.

Перед вами – 5 фактов, относящихся к одному из русских городов.  
Ваша задача – назвать этот город, но примите во внимание, что 4 факта верны, а один ложен.

1. Город строился как столица крупного княжества – современников потряс размах земляных валов, охватившего город в кольцо.
2. Город стоит на берегу большого озера и маленькой речке-ручейке, впадающей в это озеро.
3. Город, согласно преданию, был основан Ярославом Мудрым на месте боя с медведицей.
4. В городе правил некоторое время Александр Невский
5. Центр города украшает Спасский собор, построенный в духе владими́ро-суздальского зодчества.

Ответ: Переславль

### Задание 4.

Разгадайте исторический ребус и внесите свой ответ в таблицу ответов.

*Таких православных монастырей вообще – 5, но 2 из них отличаются от других – и это даже вынесено в их название. Вспомните тот монастырь из этих двух, который был основан раньше второго и укажите **имя и прозвище** старшего из его двух основателей.*

Ответ: Феодосий Печерский

### Задание 5.

Разгадайте исторический ребус и внесите свой ответ в таблицу ответов.

*На самом деле – этот пролив открыл он, что, правда, никто и не оспаривает. В честь него даже назвали мыс на северном окончании континента. Но назван этот пролив в честь другого русского путешественника и первооткрывателя, который жил на сто лет позже. Вспомните **фамилию** первого путешественника, о котором идёт речь в этом ребусе и внесите её в таблицу ответов.*

Ответ: Берингов пролив. Фамилия путешественника - Дежнёв.

### Задание 6.

Этот предмет изначально был прежде всего видом оружия, но затем стал одним из символов власти на приграничных к Русскому государству территориях. На представленной иллюстрации – этот предмет, богато украшенный в Персии и подаренный русскому царю. Назовите этот предмет.



Ответ: булава

**Задание 7.**

Назовите год, когда было создано особое воинское формирование, представитель которого изображён на представленном изображении.



Ответ: 1565

**Задание 8.**

Укажите буквенное обозначение, которым на карте обозначен район, в котором правил, легендарный брат Рюрика Синеус.




1. А.
2. Б.
3. В.
4. Г.

Ответ: [2]

**Задание 9.**

Укажите название представленного древнерусского шрифта.



Ответ: древнерусский устав

**Задание 10.**

Этот русский правитель неоднократно появлялся в кинематографе. Внимательно рассмотрите представленные стоп-кадры, на которых изображён этот правитель.

Укажите имя и отчество его сына – преемника на престоле.





Ответ: Сын - Фёдор I Иванович

### Задание 11.

Укажите название города, в котором находится крепость, изображенная на представленном фрагменте картины.



Ответ: Белокаменная Москва

### Задание 12.

В представленных вам списках – топонимы, отражающие основные ремесла и занятия людей русского Средневековья. Выберите список, в котором все элементы связаны с ремеслами и занятиями.

1. Гончарная улица, Большой Толмачёвский переулок, Печатников переулок
2. Бобров переулок, Таганская улица, Павелецкая площадь
3. 5-й Монетчиковский переулок, Кузнецкий мост улица, Козицкий переулок
4. Гагаринский переулок, Поварская улица, улица Спиридоновка

Ответ: [1]

### Задание 13.

Укажите номер топонима из представленного списка, который не связан с названием рек.

1. Мытищи
2. Волоколамск
3. Великий Устюг
4. Васильсурск

Ответ: [1]

### Задание 14.

Перед вами – эпиграмма Марка Валерия Марциала, в которой описано традиционное противоборство различных команд (партий) в этом виде спорта. Назовите год, в котором произошло событие, которое стало продолжением этой борьбы команд (партий) и привело к 35 тысячам погибшим и серьёзным политическим последствиям.

*Без остановки кнутом четверню «голубой» погоняет, А четверня не бежит. Вот так ловкач Катриан!*

Ответ: 532

### Задание 15.

Выберите из списка ряд, в котором устойчивые выражение (идиомы) и крылатые фразы, относятся к событиям, произошедшим в одном столетии.

1. «Париж стоит мессы» - «Святая простота»
2. «Хождение в Каноссу» - «На сём стою и не могу иначе»
3. «Перейти через Рубикон» - «И ты, Брут?»
4. «Тишина великая» - «Не в силе Бог, но в правде»

Ответ: [3]

### Задание 16.

Разгадайте исторический ребус.

*Имена этих правителей очень похожи – оба имени состоят из 6 букв, причём последние 4 буквы у них совпадают. Первый из них вошёл в историю как величайший предводитель кочевников, «плеть Божья» для потерявших веру и утонувших в грехах европейцев, второй же жил сто лет спустя и, будучи королём, погибнув, защищая родной ему полуостров от нападения империи. Укажите название племени, королем, которого был второй правитель.*

Ответ: король остготов Тотила

### Задание 17.

Заполните пропуск в представленной таблице.

||| | :-----: | :-----: || Лондиниум | Лондон || ? | Париж || Турикум | Цюрих |

Ответ: город Паризии

### Задание 18.

Вашему вниманию представлен отрывок из речи христианского богослова. Выберите верное суждение, относящееся к этому отрывку, и укажите его номер в таблице ответов.

*Все полно этого рода людьми: улицы, рынки, площади, перекрестки. Это торговцы платьем, денежные менялы, продавцы съестных припасов. Ты спросишь их, сколько нужно заплатить, а они философствуют о Рожденном и Нерожденном. Хочешь узнать цену на хлеб, отвечают: «Отец больше Сына». Справишься: готова ли баня? Говорят: «Сын произошел из ничего».*

Суждения:

1. Описываемые в приведенном отрывке споры характеризуют общественную реакцию на кризис католичества в первой половине XVI века и возникновение протестантизма.
2. Описываемые в приведенном отрывке споры связаны с общественной реакцией на Великую Схизму – разделение христианской церкви на западную и восточную.
3. Описываемые в приведенном отрывке споры, относятся ко времени созыва Вселенских Соборов.
4. Описываемые в приведенном отрывке споры отражают борьбу иконоборцев и иконопочитателей.

Ответ: [3]

### Задание 19.

Рассмотрите представленную картину и назовите имя фольклорного персонажа, которому она посвящена.



Ответ: былина Садко

## Задание 20.

Разгадайте историческую загадку и впишите ответ в таблицу ответов.

*При этом правителе было основано несколько городов. Первый из них был основан на месте языческого капища и назван был славянским именем правителя. Второй же, основанный 20 лет спустя уже был назван по греческому имени правителя. Интересно, что первый город до сих пор сохранил свое название и никогда не переименовывался, тогда как второй несколько раз переименовывался и сегодня находится на территории иностранного государства. Укажите современное название второго города.*

Ответ: город - Тарту

## Задание 21.

Перед Вами – фрагменты известных произведений мировой художественной литературы, посвященные истории европейских государств конца XV – XVII вв. Внимательно ознакомьтесь с ними и выполните задания.

- 1) «Граф де Ла Фер, — сказал он по-французски, — здесь ли вы и могу ли я говорить с вами?» Этот голос пронзил сердце Атоса, как холодная сталь. «Да, ваше величество», — с трепетом отвечал он. «Верный друг, благородное сердце, — заговорил король, — меня нельзя было спасти, мне не суждено было сохранить жизнь. Быть может, я совершаю святотатство, но все же я скажу тебе: да, после того как я говорил с людьми и говорил с богом, я буду теперь говорить с тобой последним. Защищая дело, которое я считал священным, я потерял трон отцов моих и расточил наследство моих детей. Но у меня осталась еще миллион фунтов золотом; я зарыл его в подземелье Ньюкаслского замка, когда оставлял этот город. Ты один знаешь, где эти деньги; употреби их, когда тебе покажется подходящим, на пользу и благо моего старшего сына. А теперь, граф де Ла Феру простись со мной». «Прощай, король-мученик», — пробормотал Атос, цепенея от ужаса. Настала минута безмолвия. Атосу показалось, что король привстал и переменял положение. Затем громким и звонким голосом, чтобы его услышали не только на эшафоте, но и на площади, король произнес: «Remember». Едва он произнес это слово, как сильный удар потряс эшафот; пыль посыпалась с обивки, ослепив бедного Атоса. Когда он машинально поднял глаза и голову, ему упала на лоб теплая капля. Атос отступил, дрожа от ужаса, и тотчас же капля превратилась в темную струю, хлынувшую сквозь помост» (А. Дюма)
- 2) «... Уленшпигель сказал морякам и солдатам: «Кровавый герцог осмелился издать в Утрехте благотельный указ, в котором он среди прочих благость и щедрот грозит непокорным жителям голодом, смертью, разором. «Все, кто еще не сдался, будут уничтожены, — вещает он, — его королевское величество заселит ваш край иностранцами». Кусай, герцог, кусай! Зубы гадюки ломаются о напильник. Напильник – это мы. Да здравствует Гез! Альба, ты опьянел от крови! Неужели ты думаешь, что мы убоимся твоих угроз или же уверуем в твое милосердие? Твои хваленые полки, о которых ты развонил на весь мир, все эти «Непобедимые», «Неустрасимые», «Бессмертные», вот уже семь месяцев обстреливают Гарлем – слабо укрепленный город, который защищают одни местные жители. И при взрывах твоих «Бессмертные» так же кувыркаются в воздухе, как и простые смертные. Горожане поливали их смолой. В конце концов твои войска все же покрыли себя неуязвимой славой, перебив безоружных. Ты слышишь, палач? Час божьего гнева пробил!» (Ш. де Костер)
- 3) ««Великий государь! — сказал он, приблизившись к ступеням престола, — казачий твой атаман [...], вместе со всеми твоими опальными волжскими казаками, осужденными твоею царскою милостью на смерть, старались заслужить свои вины и бьют тебе челом новым царством. Прибавь, великий государь, к завоеванным тобою царствам Казанскому и Астраханскому еще и это Сибирское, доколе всевышний благоволит стоять миру!» И, проговорив свою краткую речь, Кольцо вместе с товарищами опустился на колени и преклонил голову до земли. «Встаньте, добрые слуги мои! — сказал Иоанн. — Кто старое помянет, тому глаз вон, и быть той прежней опале не в опалу, а в милость. Подойди сюда, Иван!» И царь протянул к нему руку, а Кольцо поднялся с земли и, чтобы не стать прямо на червленое подножие престола, бросил на него сперва свою баранью шапку, наступил на нее одною ногою и, низко наклонившись, приложил уста свои к руке Иоанна, который обнял его и поцеловал в голову» (А.К. Толстой)
- 4) «Опять король и королева посовещались между собой по вопросу о благородном происхождении противников, который в те времена играл весьма важную роль, особенно в [...]. Наконец Изабелла сказала: «По законам нашей страны гранд не имеет права встречаться в поединке с простым иностранным джентльменом. Раз маркиз посчитал удобным выдвинуть это соображение, мы поддерживаем его и считаем, что он не обязан принять этот вызов для сохранения своей чести. Однако мы видели, что маркиз Морелла готов принять этот вызов, и решили сделать все, что в наших силах, чтобы никто не мог сказать, что [...], причинивший зло англичанину и открыто вызванный на бой в присутствии своих суверенных властителей, отказался от этого по причине своего звания. Сеньор Брум, если вы согласны получить из наших рук то, что с гордостью принимали другие ваши соотечественники, мы намерены, считая вас храбрым и честным человеком благородного происхождения, посвятить вас в рыцари ордена Сант-Яго, а следовательно, дать вам право обращаться или сражаться как с равным с любим [...] дворянином, если только он не прямой потомок королей, на что, как мы думаем, могущественный и блестящий маркиз Морелла не претендует» (Г. Р. Хаггард)
- 5) «Спустя несколько минут вошли Екатерина и герцог Алансонский, дрожащие от страха и бледные от ярости. Генрих угадал: Екатерина знала все и в нескольких словах рассказала Франсуа. Они сделали несколько шагов и остановились в ожидании. Генрих стоял в изголовье постели Карла. Король объявил им свою волю. «Ваше величество! — обратился он к матери. — Если бы у меня был сын, регентшей стали бы вы; если бы не было вас, регентом стал бы король Польский; если бы, наконец, не было короля Польского, регентом стал бы мой брат Франсуа. Но сына у меня нет, и после меня трон принадлежит моему брату, герцогу Анжуйскому, но он отсутствует. Рано или поздно он явится и потребует этот трон, но я не хочу, чтобы он нашел на своем месте человека, который, опираясь на почти равные права, станет защищать эти права и тем самым развяжет в королевстве войну между претендентами. Вот почему я не назначаю регентшей вас – ибо вам пришлось бы выбирать между двумя сыновьями, а это было бы тягостно для материнского сердца. Вот почему я не остановил своего выбора и на моем брате Франсуа – мой брат Франсуа мог бы сказать старшему брату: «У вас есть свой престол, зачем же вы его бросили?» Нет! Я выбирал такого регента, который может принять корону только на хранение и который будет держать ее под своей рукой, а не надевать на голову. Этот регент – король Наваррский. Приветствуйте его, ваше величество! Приветствуйте его, брат мой!»» (А. Дюма)

Назовите страны, истории которых посвящены приведенные отрывки. Введите названия стран в текстовые поля.

Страна из отрывка 1:

Ответ: анлия

**Задание 22.**

Страна из отрывка 2:

Ответ: Габсбургские Нидерланды

**Задание 23.**

Страна из отрывка 3:

Ответ: государство Российское

**Задание 24.**

Страна из отрывка 4:

Ответ: Испании


**Задание 25.**

Страна из отрывка 5:

Ответ: Королевство Франция

**Задание 26.**

Установите соответствие между странами (обозначенные цифрами в предыдущем задании) и изображениями произведений искусства (буквы), появившихся в этих странах в период, которому посвящено задание.



A.





Б.



Б.



Г.





Д.

Ответ: [[1, В], [2, Д], [3, А], [4, Г], [5, Б]]

### Задание 27.

Установите соответствие между странами (обозначенные цифрами) и именами государственных деятелей этих стран, являвшихся современниками описанных во фрагментах событий.

Обратите внимание, что среди приведенных имен деятелей есть «лишние».

- А. Вильгельм I Оранский
- Б. Жак Неккер
- В. Томас де Торквемада
- Г. Оливер Кромвель
- Д. Алексей Федорович Адашев
- Е. Генрих I де Лоррен, герцог де Гиз
- Ж. Борис Федорович Годунов
- З. Томас Мор

Ответ: [[Е, 5], [Ж, 3], [В, 4], [А, 2], [Г, 1]]