

Задание 1.

Интересно, что все эти три камня называются одинаково, правда лишь один носит это географическое название в честь места, где он находится, два же остальных – в память о трагической странице в истории этого места. Назовите место, в честь которого называются все эти камни.



Ответ: Соловки

Задание 2.

Актёра Николая Черкасова часто звали выступить на фронте в годы Великой Отечественной войны: красноармейцам очень понравился номер, где актёр читает грозные реплики заглавного героя одного из известных довоенных фильмов. Назовите прозвище этого героя.

Ответ: александр невский

Задание 3.

Авторство этой иконы XIV века часто приписывается этому историческому деятелю. Укажите его имя и прозвище, которое он получил по географическому названию, имея в виду, что надпись в нижней части иконы сделана на зырянском языке.



Ответ: Зырянская троица автор Стефан Пермский

Задание 4.

Назовите имя и прозвище известного иконописца русского средневековья, активно работавшего в Новгороде, работы которого отличаются особой цветовой гаммой и экспрессией (см. иллюстрацию).



Ответ: Имя - Феофан, прозвище - Грек

Задание 5.

Рассмотрите представленное изображение и укажите название собора, который находится в процессе строительства.



Ответ: архангельский

Задание 6.

Укажите год, когда произошло историческое событие, в честь которого был основан монастырь, изображённый на представленной картине.



Ответ: 1514

Задание 7.

Названия трудов этих авторов очень похожи. Название труда первого – «(1) по истории (2) в Московском государстве», название труда второго – «(1) русской (2)», где (1) и (2) – одинаковые слова в обоих названиях. Отличие же трудов колоссально – в первом идёт речь о событиях рубежа XVI и XVII веков, а во втором – о Гражданской войне. Назовите фамилию первого из авторов.

Ответ: платонов

Задание 8.

Назовите фамилию второго из авторов.

Ответ: А.Деникин

Задание 9.

Укажите век, когда правил русский монарх, которого в прижизненных источниках называли «Император Иоанн III»

Ответ: 18

Задание 10.

Назовите имя и порядковый номер российского монарха, при котором было восстание, герой которого изображён на представленном гербе республики.



Ответ: Екатерина II

Задание 11.

Назовите два архитектурных памятника, построенных в память о победе России в Отечественной войне 1812 года и изображённых на представленной медали.



Ответ: ['бородинский мост ', 'храм христа спасителя ']

Задание 12.

Отталкиваясь от исторических реалий и понимания картины В. Поленова «Бабушкин Сад», укажите название сословия, к которому принадлежит пожилая женщины в чёрном.



Ответ: Дворянам

Задание 13.

Представителям этого имени среди цесаревичей традиционно не везло. Первый из них – [имя] Алексеевич – хоть и был соправителем своего отца, но скончался в возрасте шестнадцати лет. Второй – [имя] Петрович – был обвинён своим же отцом в заговоре и казнён, а третий – [имя] Николаевич – был казнён вместе со своим отцом. Напишите это имя.

Ответ: алексей

Задание 14.

После переименования этого города появился следующий анекдот: ««После переименования с того света пришла телеграмма: "Согласен. Иосиф Волгин."». Назовите название этого города, которое он носил до 1925 года.

Ответ: Город-крепость Царицын

Задание 15.

Говоря о критике своего произведения «Конармия», писатель Бабель отмечал, что этот государственный деятель «въехал в литературу на коне и с высоты коня судил её». Напишите фамилию этого государственного деятеля.

Ответ: Буденному

Задание 16.

Назовите фамилию министра Внутренних дел СССР, при котором проводилась широкая кампания по формированию положительного образа советской милиции, в рамках которой, были выпущены этот мультфильм и этот фильм.



Ответ: Н. А. Щелоков

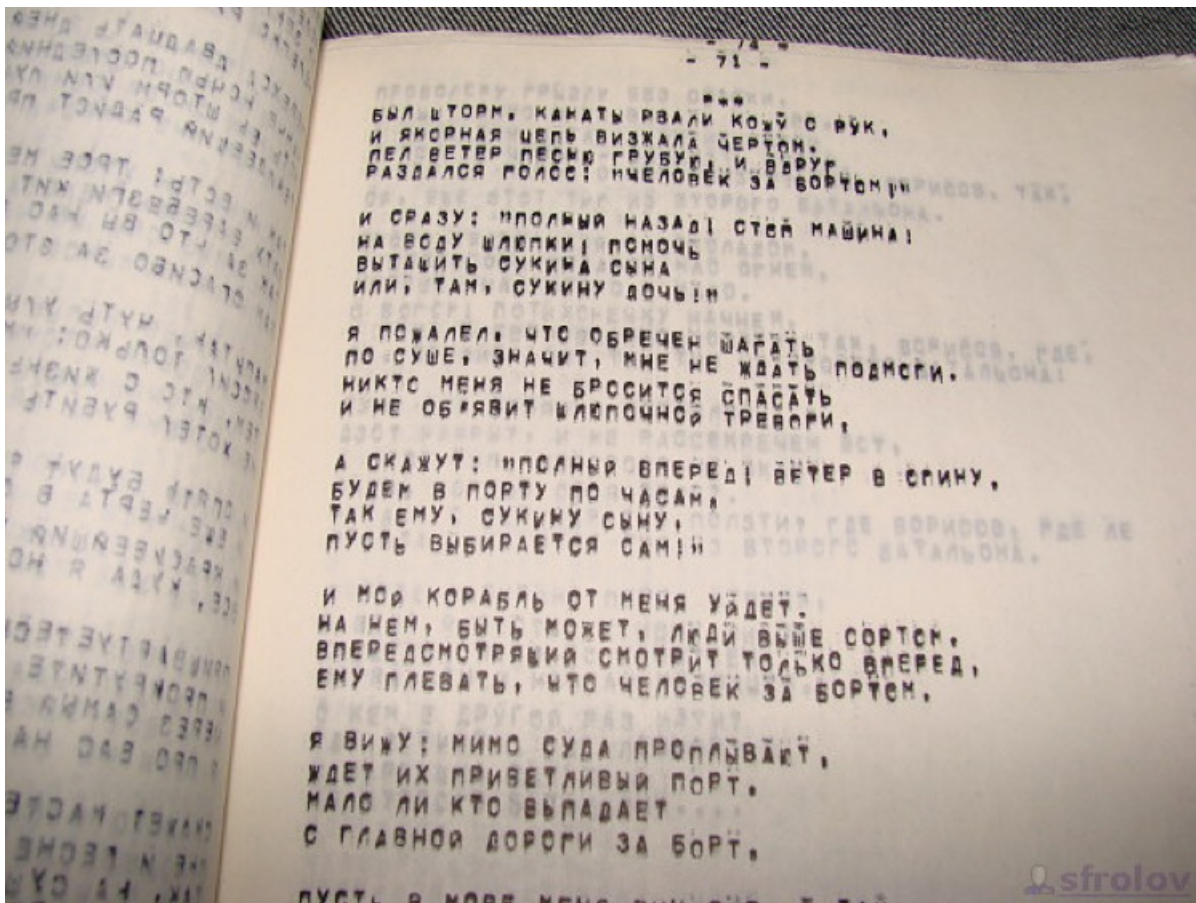
Задание 17.

Для поколения «шестидесятников» аудитория именно этого московского музея стала культовым местом – там выступали известные поэты, проводились дискуссии. Укажите название этого музея.

Ответ: Московский Политехнический

Задание 18.

Рассмотрите представленную иллюстрацию и назовите такой способ публикации запрещённых в Советском Союзе литературных произведений.



Ответ: самиздат

Задание 19.

Прочтите фрагмент известной поэмы и укажите век, когда был основан город, в котором расположен описанный объект гидроэнергетики.

Стояла ГЭС, уже темнея справа и вся в закате - с левой стороны. Она играла с Ангарой взметенной и сотворяла волшебство с водой.

Ответ: 17

Задание 20.

Укажите фамилию советского военного и государственного деятеля, которая стала названием города, столицы советской республики.

Ответ: М. В. Фрунзе

Задание 21.


Назовите дружественное Советскому Союзу государство, которое иногда шуточно называли «шестнадцатой республикой». Подсказкой вам может выступить государственная награда этого государства.



Ответ: монголия

Задание 22.


Укажите название известной картины XIX века на которую идёт отсылка на представленной белоэмигрантской карикатуре.



Ответ: апофеоз войны

Задание 23.


Укажите название объекта спортивной инфраструктуры, располагавшегося на месте предполагаемого строительства сооружения изображение которого приведено.



Ответ: бассейн "москва"

Задание 24.

Укажите фамилию коммуниста, одного из руководителей Коминтерна, который был главой государства, на территории которого расположен изображенный на иллюстрации памятник.



Ответ: Г. Димитров

Задание 25.

Перед вами – скульптурная композиция «Тираноборцы», посвященная Гармодию и Аристогитону – гражданам Афин, боровшимся против тирании Писистратидов. Привлекая знания истории России, укажите фамилию скульптора, который переосмыслил данную скульптуру и сделал ее всемирным символом Советского государства.



Ответ: Вера Игнатьевна Мухина

Задание 26.

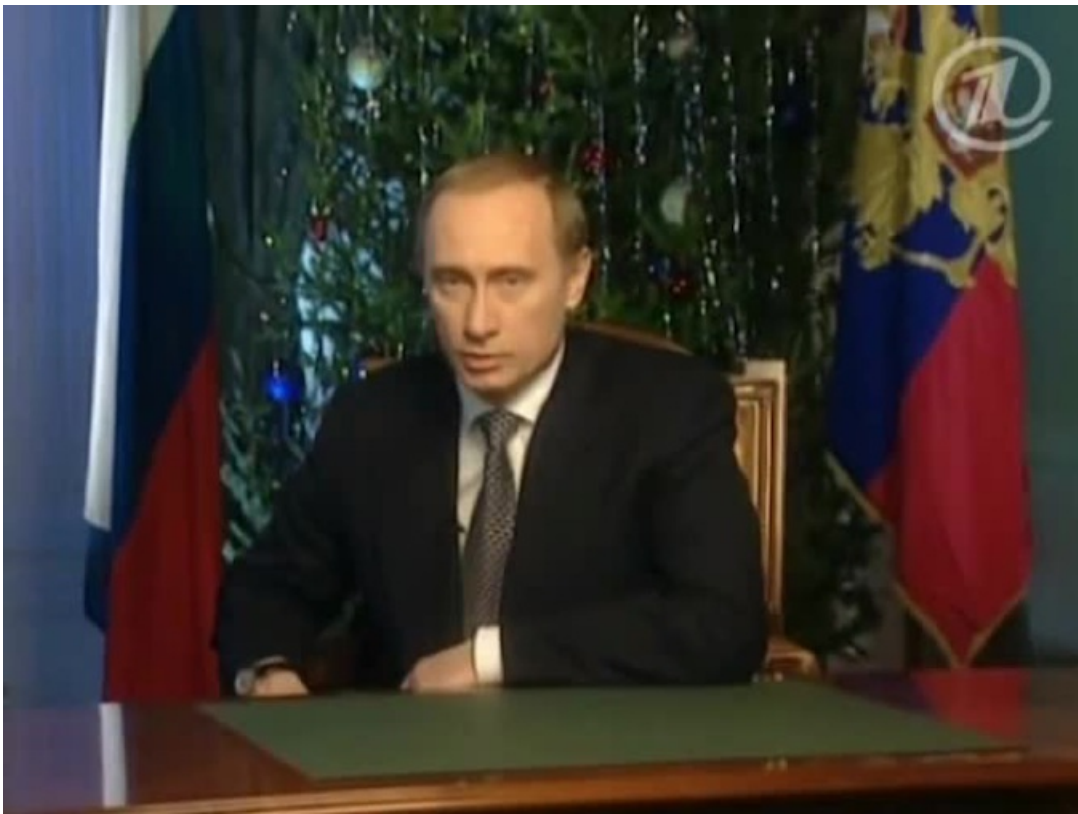
Перед Вами – видеофрагменты, посвященные событиям политической истории СССР – Российской Федерации конца 1980-х – 1990-х гг. Внимательно изучите их и выполните задания:

Установите соответствие видеофрагмента с изображением (буква), посвященным событиям того же года, что и видеофрагмент.

1. <https://youtu.be/qEH5ztpf5vQ>
2. <https://youtu.be/tmteVyg-Lyw>
3. <https://youtu.be/sX0П80ESqg>
4. <https://youtu.be/ny4vFM-UcLg>
5. https://youtu.be/_yMYqeE_I2o



А.



Б.



В.



Г.



Д.

Ответ: [[1, Д], [2, В], [3, А], [4, Г], [5, Б]]

Задание 27.

Установите соответствие видеофрагмента (порядковый номер) с событием (римская цифра), произошедшим в том же году, что и события, нашедшие отражение в видеофрагменте.

- I. Российская Федерация вступает в Совет Европы.
- II. Председатель Правительства Российской Федерации Е.М. Примаков совершает свой знаменитый «разворот над Атлантикой».
- III. Российская Федерация и Соединенные Штаты Америки подписывают Договор СНВ-2.
- IV. Дж. Буш-старший торжественно вступает в должность президента Соединенных Штатов Америки.
- V. Начинается осуществление известной операции «Буря в пустыне» по освобождению Кувейта и разгрому сил армии Ирака.

Ответ: [[1, III], [2, I], [3, V], [4, IV], [5, II]]

Задание 28.

Укажите год, когда происходили события, отображенные в видеофрагменте 1.

Ответ: 1993

Задание 29.

Укажите год, когда происходили события, отображенные в видеофрагменте 2.

Ответ: 1996

Задание 30.

Укажите год, когда происходили события, отображенные в видеофрагменте 3.

Ответ: 1991

Задание 31.

Укажите год, когда происходили события, отображенные в видеофрагменте 4.

Ответ: 1989

Задание 32.

Укажите год, когда происходили события, отображенные в видеофрагменте 5.

Ответ: 1999

Задание 33.

Перед Вами – фрагменты сводок Совинформбюро, посвященные значимым событиям Великой Отечественной войны. Укажите годы, когда происходили события, отраженные в приведенных фрагментах. Обратите внимание, что годы могут повторяться.

1) «Город обороняла крупная группировка немецких войск, располагавшая большими запасами вооружения и боеприпасов в Восточной Пруссии. Гитлер отдал гарнизону строжайший приказ — удерживать крепость до последнего солдата. Специальные отряды эсэсовцев и гестаповцев расстреливали на месте каждого солдата или офицера, который пытался самовольно оставить позиции или сдаться в плен. [...] Не выдержав ударов наших войск, гарнизоны отдельных опорных пунктов стали сдаваться в плен. Вскоре пала городская цитадель. Наши войска к исходу дня подавили последние очаги сопротивления противника и полностью овладели городом и крепостью [...]»

2) «В ответ на доклад товарища Сталина на торжественном заседании Московского совета и его речь на параде Красной Армии 7 ноября на Красной площади трудящиеся советской страны берут новые обязательства по увеличению выпуска продукции — всего, что нужно фронту. Стахановка-прядильщица московской фабрики “Освобождённый труд” тов. Колчина заявила: “Речь товарища Сталина еще более укрепила нашу уверенность в победе над заклятым врагом. Мы будем работать ещё лучше и отдадим фронту все свои силы”»

3) «Войска 3-го Белорусского фронта продолжали успешное наступление. Стремительно продвигаясь вдоль шоссе, наши подвижные части ночью вышли на ближние подступы к городу. Советские танкисты и пехотинцы сломали сопротивление немцев на внешнем оборонительном обводе и одновременно с северо-востока, востока и юго-востока ворвались в город. К 7 часам утра немцы уже были выбиты из восточной части [...]. Наши войска, развивая успех, форсировали реку Свислочь и к полудню завершили разгром гарнизона противника. Советские воины полностью освободили от немецко-фашистских захватчиков столицу Советской Белоруссии»

4) «С утра 5 июля наши войска на Орловско-Курском и Белгородском направлениях вели упорные бои с перешедшими в наступление крупными силами пехоты и танков противника, поддержанными большим количеством авиации. Все атаки противника отбиты с большими для него потерями и лишь в отдельных местах небольшим отрядам немцев удалось незначительно вклиниться в нашу оборону. [...] Бои продолжаются»

5) «Тегеранский корреспондент агентства Ассошиэйтед Пресс со слов какого-то мифического путешественника, вернувшегося из Мешхеда, сообщил, что “советские самолёты обстреляли из пулемётов мусульман-богомольцев, шедших по дороге, уже после того, как Иран отдал распоряжение прекратить сопротивление”. Это сообщение тегеранского корреспондента агентства Ассошиэйтед Пресс является нелепым и по меньшей мере странным. Советские самолёты как во время продвижения советских войск в Иране, так и после того, как были прекращены военные действия, ни в каких мусульман-богомольцев или других мирных жителей не стреляли. Советские лётчики, и это всем известно, с мирным населением не воюют, как это делают гитлеровские бандиты. Приходится выразить сожаление, что тегеранский корреспондент агентства Ассошиэйтед Пресс стал жертвой провокации со стороны какого-то “путешественника” — явного гитлеровского агента и шпиона»

Числа вводите в предложенные ниже поля.

Ответ: [1945, 1941, 1944, 1943, 1941]