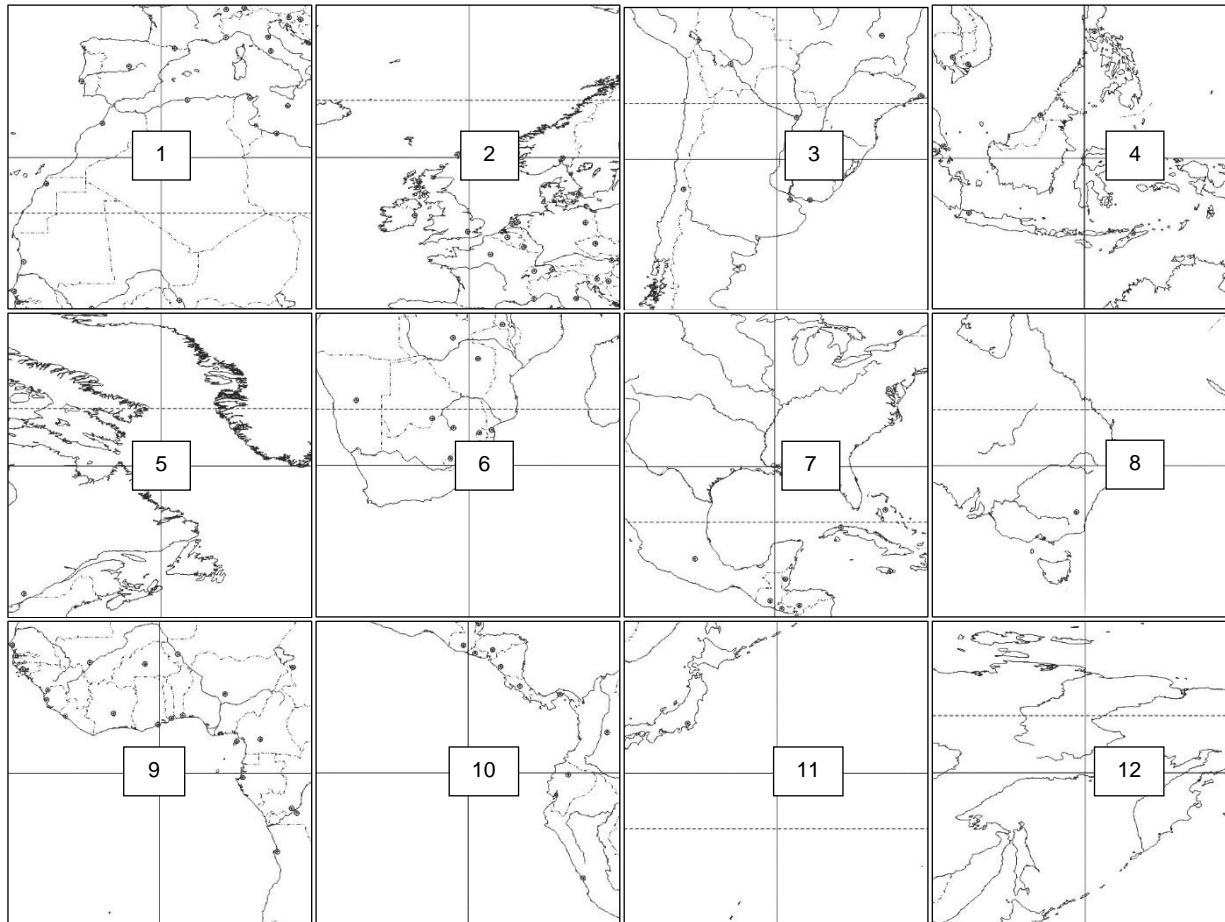


**5 класс Вариант 1.**

1. На контурной карте мира параллели и меридианы проведены через 30°. Расставьте фрагменты, вырезанные из этой карты, по порядку (с запада (от меридиана 180°) на восток и с севера на юг), сопоставив номера фрагментов с буквенными обозначениями ячеек таблицы.

<b>А</b>	<b>Б</b>	<b>В</b>
<b>Г</b>	<b>Д</b>	<b>Е</b>
<b>Ж</b>	<b>З</b>	<b>И</b>
<b>К</b>	<b>Л</b>	<b>М</b>

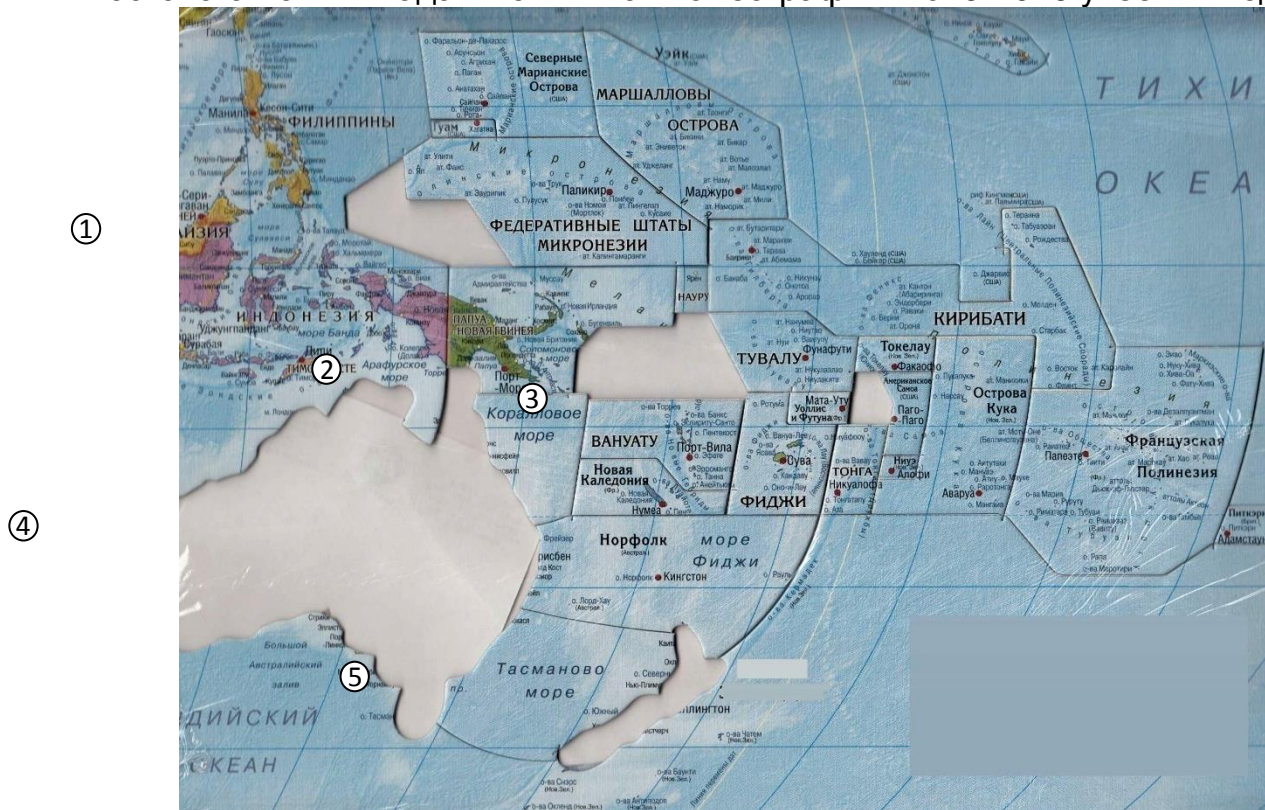


2. Перед вами фотографии, на которых изображены изделия некоторых народных промыслов России. Предположите, из какого материала сделан каждый из образцов. В каких регионах России (природных зонах) могли бы появиться такие промыслы.



3. Пазлы (от английского слова puzzle – головоломка) были изобретены в Англии в 1761 г. лондонским торговцем географическими картами Джоном Спилсбери. С помощью атласа определите, пазл какой части света изображен на рисунке, а также кусочки пазла с какими государствами были вынуты из общей картины. Назовите часть света, и пять государств (номера от 1 до 5), а также столицы этих государств.

Московская олимпиада школьников по географии. 2015-2016 учебный год, 2 тур

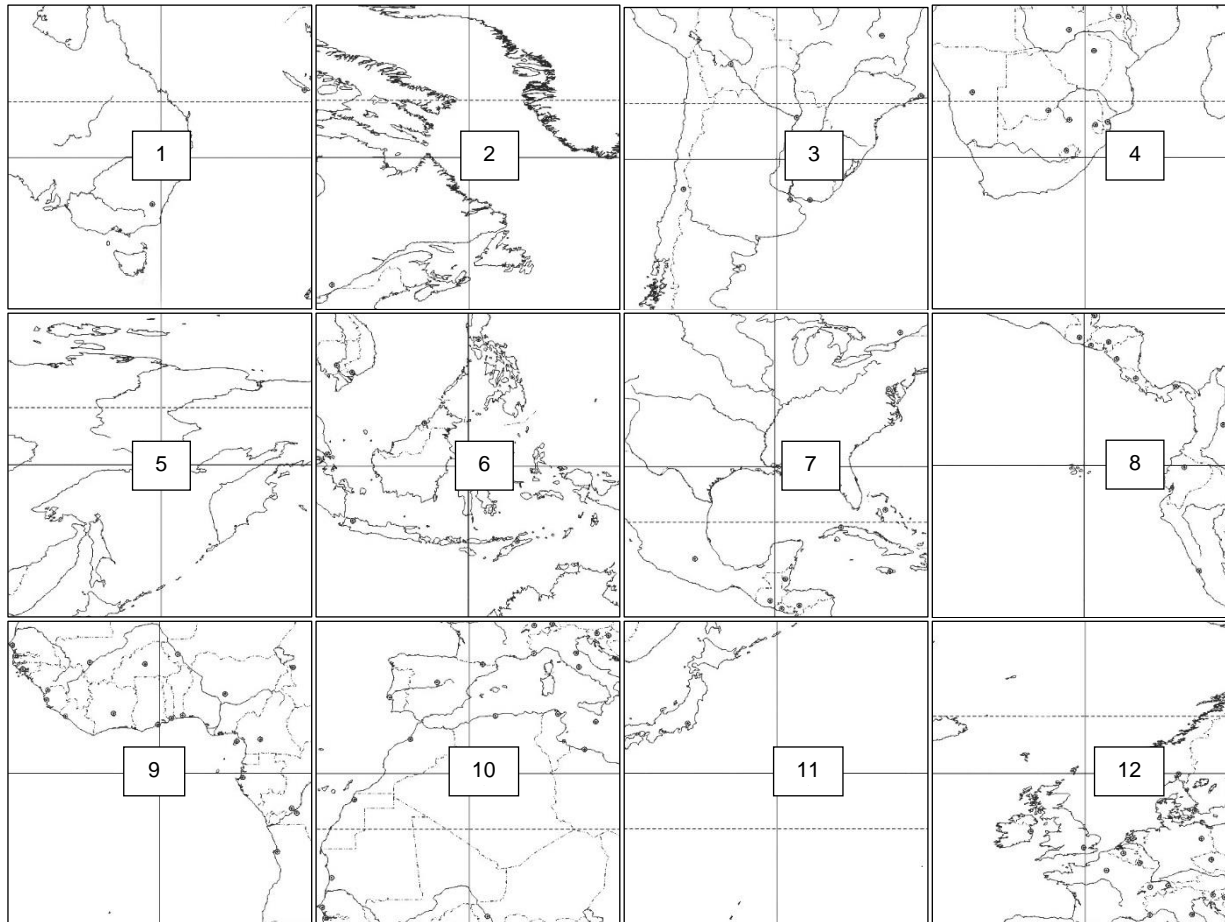


4. Найдите в атласе карты важнейших географических открытий. Проанализируйте маршрут экспедиции Ф. Магеллана (1519-1521 гг.). Используя все карты атласа, выпишите моря и океаны, через которые пролегал маршрут экспедиции.

**5 класс Вариант 2.**

1. На контурной карте мира параллели и меридианы проведены через 30°. Расставьте фрагменты, вырезанные из этой карты, по порядку (с запада (от меридиана 180°) на восток и с севера на юг), сопоставив номера фрагментов с буквенными обозначениями таблицы.

<b>А</b>	<b>Б</b>	<b>В</b>
<b>Г</b>	<b>Д</b>	<b>Е</b>
<b>Ж</b>	<b>З</b>	<b>И</b>
<b>К</b>	<b>Л</b>	<b>М</b>



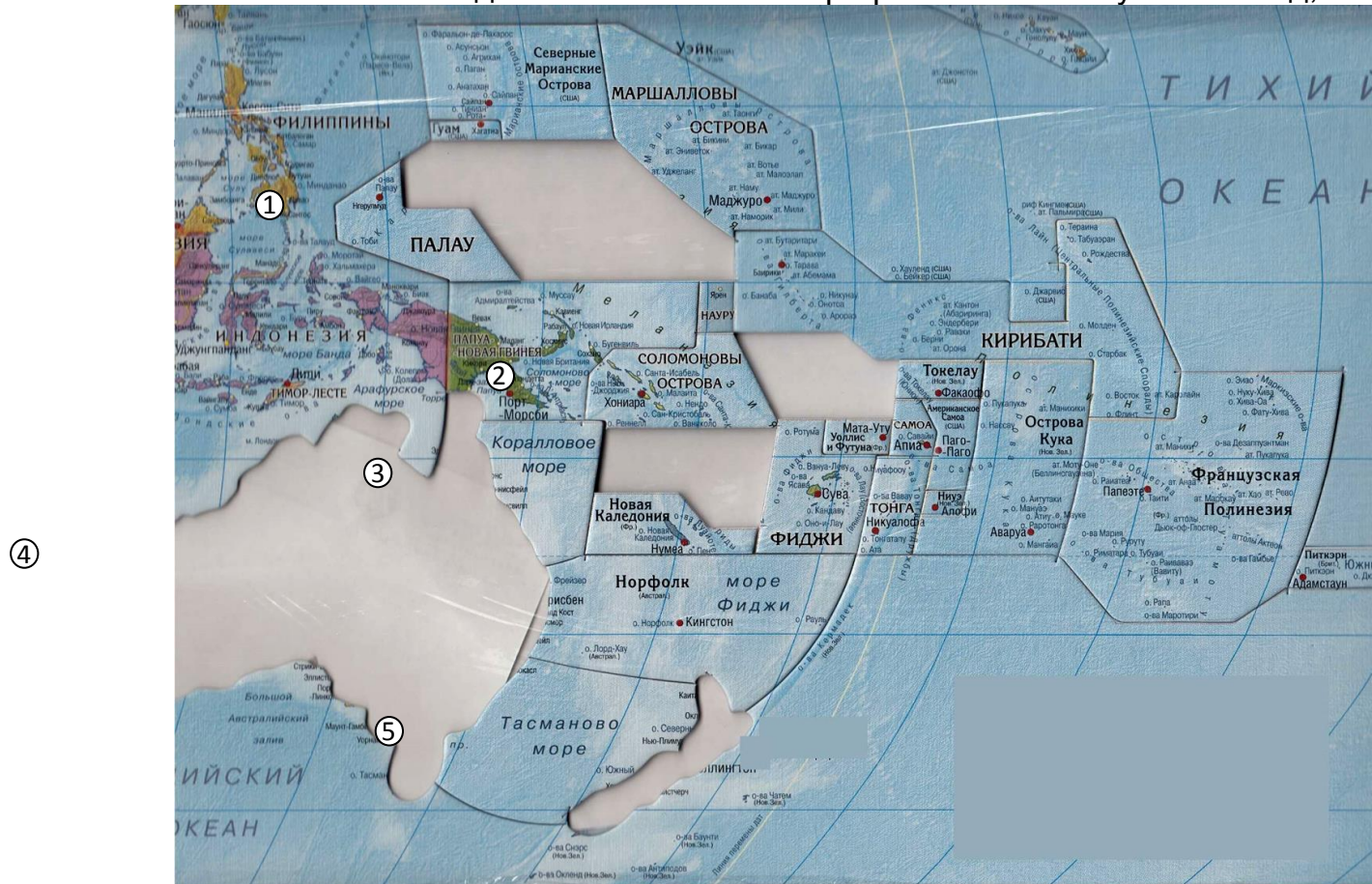
2. Перед вами фотографии, на которых изображены изделия некоторых народных промыслов России. Предположите, из какого материала сделан каждый из образцов. В каких регионах России (природных зонах) могли бы появиться такие промыслы.



3. Пазлы (от английского слова puzzle – головоломка) были изобретены в Англии в 1761 г. лондонским торговцем географическими картами Джоном Спилсбери. С помощью атласа определите, пазл какой части света изображен на рисунке, а также кусочки пазла с какими государствами были вынуты из общей картины. Назовите часть света, и пять государств (номера от 1 до 5), а также столицы этих государств.



Московская олимпиада школьников по географии. 2015-2016 учебный год, 2 тур



4. Найдите в атласе карты важнейших географических открытий. Проанализируйте маршрут экспедиции Дж. Кука (1768-1771 гг.). Используя все карты атласа, выпишите современные названия морей и океанов, через которые пролегал маршрут экспедиции.