

История
10 класс
Дистанционный этап
Часть А

Выберите по 1 верному ответу в каждом задании.

1. Прочтите отрывок из древнерусской повести и определите имя князя, об убийстве которого говорится в данном произведении.

«Как настала ночь, они, прибежав и схвативши оружие, пошли на князя как дикие звери, но, пока шли они к спальне его, пронзил их и страх, и трепет. И бежали с крыльца, опустясь в погребца, напильсь вина. Сатана возбуждал их в погребце и, служа им незримо, помогал укрепиться в том, что они обещали ему. И так, упившись вином, взошли они на крыльцо. Главарем же убийц был Петр, зять Кучки, Анбал, яс родом, Ключник, да Яким, да Кучковичи — всего числом двадцать зловредных убийц, вошедших в греховный заговор в тот день».

- 1) Юрий Долгорукий
- 2) Дмитрий Грозные Очи
- 3) Всеволод Большое Гнездо
- 4) Андрей Боголюбский

Ответ 4

2. Прочтите отрывок из Указа, изданного одним из русских царей. Определите дату смерти царя, при котором данный указ принят.

Которые крестьяне из-за бояр, и из-за дворян, и из-за приказных людей, и из-за детей боярских, и из-за всяких людей, из поместей и из вотчин, из патриарховых, и из митрополичих, и изо владычных, и из монастырских вотчин выбежали до нынешнего 106-го году за пять лет, – и на тех беглых крестьян в их побеге и по тех помещиков и вотчинников, за кем они, выбежав, живут, тем помещиком, из-за кого они выбежали, и патриаршим, и митрополичим, и владычным, и детем боярским, и монастырских сел приказщиком и служкам давати суд и сыскивати накрепко всякими сыски. А по суду и по сыску тех крестьян беглых с женами и с детьми и со всеми их животы возити их назад, где кто жил».

- 1) 1598
- 2) 1584
- 3) 1605
- 4) 1606

Ответ 1

3. Прочтите отрывок из письма казанского губернатора А.П. Волынского и определите город, в котором находился адресат письма.

«Слышно здесь, что делается у вас или уже и сделано, чтоб быть у нас республике. Я зело в том сумнителен. Боже сохрани, чтоб не сделалось вместо одного самодержавного государя десяти самовластных и сильных фамилий: и так мы, *шляхетство*, совсем пропадем и принуждены будем горше прежнего идолопоклонничать и милости у всех искать, да еще и сыскать будет трудно, понеже ныне между главными как бы согласно ни было, однако ж впредь, конечно, у них без разборов не будет, и так один будет миловать, а другие, на того яряся, вредить и губить станут».

- 1) Санкт-Петербург
- 2) Рига
- 3) Москва
- 4) Новгород

Ответ 3

4. Один из важнейших законодательных актов Российской империи был принят "Дабы тем охоту подать к службе и оным честь, а не нахалам и тунеядцам получать". Укажите название этого документа.

- 1) Генеральный регламент
- 2) Жалованная грамота дворянству
- 3) Указ об образовании Сената
- 4) Табель о рангах

Ответ 4

5. Прочтите отрывок из произведения А.С. Пушкина и укажите место действия.

«Молчит неверный часовой,
Опущен молча мост подъемный,
Врата отверсты в тьме ночной
Рукой предательства наемной».

- 1) Зимний дворец
- 2) Екатерининский дворец
- 3) Михайловский замок
- 4) Большой Кремлевский дворец

Ответ 3

6. Прочтите отрывок из международного трактата. Этот трактат отменяет действие предыдущего договора. Укажите название отмененного соглашения.

«Левый берег реки Амура, начиная от реки Аргуни до морского устья р. Амура, да будет владением российского государства, а правый берег, считая вниз по течению до р. Усури, владением дайцинского государства; от реки Усури далее до моря находящиеся места и земли, впредь до определения по сим местам границы между двумя государствами, как ныне да будут в общем владении дайцинского и российского государств. По рекам Амуру, Сунгари и Усури могут плавать только суда дайцинского и российского государств; всех же прочих иностранных государств судам по сим рекам плавать не должно».

- 1) Нерчинский
- 2) Пекинский
- 3) Симодский
- 4) Санкт-Петербургский

Ответ: 1

Выберите несколько верных ответов в каждом задании.

7. Прочтите отрывок из памятника древнерусской литературы. Отметьте имена участников сражения, о котором идет речь в данном отрывке.

«Уже всюду на Русской земле веселье и ликованье. Вознеслась слава русская над хулой поганых. Уже низвергнуто Диво на землю, а гроза и слава великого князя Дмитрия Ивановича ж брата его, князя Владимира Андреевича, по всем землям текут. Стреляй, князь великий, по всем землям, рази, князь великий, со своей храброй дружиной поганого за землю Русскую, за веру христианскую. Уже поганые оружие свое побросали и головы свои склонили под мечи русские. И трубы их не трубят, и примолкли голоса их».

- 1) Александр Пересвет
- 2) Стефан Баторий
- 3) Дмитрий Михайлович Боброк-Волынский

- 4) Андрей Ослябя
- 5) мурза Бегич
- 6) воевода Дмитр
- 7) Михаил Андреевич Бренок
- 8) князь литовский Ягайло

Ответ 1, 3, 4, 7

8. Какие из указанных пар объединяют правителя и церковного деятеля - его современника?

- 1) Петр I – Феофан Прокопович
- 2) Ярослав Мудрый – Феодосий Печерский
- 3) Александр III – Серафим Саровский
- 4) Анна Иоанновна – патриарх Тихон
- 5) Елизавета Петровна – Сергей Радонежский
- 6) Николай I- патриарх Никон
- 7) Борис Годунов – патриарх Иов
- 8) Василий III – Иосиф Волоцкий

Ответ 1, 2, 7, 8

9. Прочитайте отрывок из «Обращения к советскому народу». Кто из перечисленных в списке государственных и политических деятелей, входил в орган власти, от имени которого было издано данное обращение?

«Соотечественники! Граждане Советского Союза!

В тяжкий, критический для судеб Отечества и наших народов час обращаемся мы к вам! Над нашей великой Родиной нависла смертельная опасность! Начатая по инициативе М.С. Горбачёва политика реформ, задуманная как средство обеспечения динамичного развития страны и демократизации общественной жизни, в силу ряда причин зашла в тупик. На смену первоначальному энтузиазму и надеждам пришли безверие, апатия и отчаяние. Власть на всех уровнях потеряла доверие населения. Политиканство вытеснило из общественной жизни заботу о судьбе Отечества и гражданина. Насаждается злобное глумление над всеми институтами государства. Страна по существу стала неуправляемой...Мы намерены незамедлительно восстановить законность и правопорядок, положить конец кровопролитию, объявить беспощадную войну уголовному миру, искоренять позорные явления, дискредитирующие наше общество и унижающие советских граждан. Мы очистим улицы наших городов от преступных элементов, положим конец произволу расхитителей народного добра».

- 1) В.С. Павлов
- 2) А.В.Руцкой
- 3) Р.И. Хасбулатов
- 4) Д.Т. Язов
- 5) Г.И. Янаев
- 6) Б.К. Пуго
- 7) В.С. Черномырдин
- 8) Г.Э.Бурбулис
- 9) В. А. Крючков
- 10) Б. Н. Ельцин

Ответ 1, 4, 5, 6, 9

10. Из предложенных ниже утверждений верными являются:

- 1) Путь «Из варяг в греки» проходил через г. Муром.
- 2) В 1990 г. М.С. Горбачев был всенародно избран президентом СССР

- 3) В соответствии с решениями Потсдамской конференции СССР отошла часть Восточной Пруссии.
- 4) Город Тарту, находящийся в современной Эстонии, был основан Ярославом Мудрым
- 5) Нейтрализация Черного моря стала одним из итогов Крымской войны.
- 6) Действующая Конституция России была принята в 1993 году.
- 7) «Крестоцеловальная запись» была подписана Борисом Годуновым
- 8) Магистраты в русских городах были учреждены принятой в 1785 г. «Жалованной грамотой городам»

Ответ 3, 4, 5, 6, 7

11. Заполните пронумерованные пропуски в тексте. Вставляемые понятия (имена, даты, термины) занесите под соответствующими порядковыми номерами в таблицу. ВСЕ ВСТАВКИ ДОЛЖНЫ БЫТЬ В СООТВЕТСТВУЮЩЕМ ТЕКСТУ РОДЕ, ЧИСЛЕ, ПАДЕЖЕ, ФАМИЛИИ БЕЗ ИНИЦИАЛОВ. СЛОВСОЧЕТАНИЯ пишутся в ОДНО слово, БЕЗ пробелов.

До второй четверти XIX века человечество знало только два вида транспорта: водный и ____1____. Первая в мире железная дорога была открыта в ____2____ году в Англии. Очень скоро новым видом транспорта заинтересовались и в России. Против начала железнодорожного строительства возражали многие, в том числе известные реформаторы Михаил Михайлович ____3____ и Егор Францевич ____4____. Но, правящий император ____5____ в этот раз оказался на высоте понимания государственных задач. В 1836 году он подписал указ о строительстве первой в России железной дороги Петербург - ____6____. Торжественное открытие железнодорожной ветки состоялось в ____7____ году. В первый год функционирования по железной дороге поезда ходили, главным образом, на конной тяге, а затем дорога была переведена на ____8____ тягу. Первым в нашей стране поездам посвящена знаменитая « ____9____ песня». Автор ее музыки – великий композитор ____10____. Непривычно для современного человека звучат слова песни. Их автор Н.В. Кукольник назвал паровоз « ____11____ »! За несколько лет были по достоинству оценены преимущества нового вида транспорта: быстрота, экономичность. Поэтому в 1842 году императором был подписан указ о сооружении железной дороги между двумя ____12____ России: старой и новой. Движение было открыто в ____13____ году. В 1855 году московско-петербургская железная дорога стала называться ____14____, а в 1923 г. - ____15____. Вокзалы-близнецы, построенные в середине XIX века, ныне носят названия Московский и ____16____. Авторы их проектов – архитекторы Константин Андреевич ____17____ и Рудольф Андреевич Желязевич.


№	Вставка	№	Вставка
1.		10.	
2.		11.	
3.		12.	
4.		13.	
5.		14.	
6.		15.	
7.		16.	
8.		17.	
9.		18.	

№	Вставка	№	Вставка
1.	гужевой	10.	Глинка
2.	1825	11.	пароход

3.	Сперанский	12.	столицами
4.	Канкрин	13.	1851
5.	Николай I или Николай Первый	14.	Николаевской
6.	Царское Село	15.	Октябрьской
7.	1837	16.	Ленинградский
8.	паровую	17	Тон
9.	Попутная	18	

12. Рассмотрите политические карикатуры XX века. Расставьте их в хронологическом порядке с указанием годов тех событий, которым посвящены карикатуры.


Заполните таблицу, указав во втором столбце год событий изображенных на карикатурах, вписав дату напротив соответствующего буквенного обозначения. В третий столбец таблицы внесите цифровое обозначение события, произошедшего за один год до событий, изображенных на карикатуре. (Обратите внимание – в списке представлено больше событий, чем карикатур).



А



Б



Б



Г



Д

- 1) Введение всеобщей воинской обязанности в СССР
- 2) Создание НАТО
- 3) Февральская революция
- 4) Назначение И. В. Сталина Председателем Совета Народных Комиссаров СССР

- 5) Принятие Третьей программы КПСС
- 6) Принятие Устава ООН
- 7) Брусиловский прорыв
- 8) Принятие в СССР Конституции «победившего социализма»
- 9) Запуск первого искусственного спутника Земли
- 10) Учреждение в СССР орденов Суворова, Кутузова, Александра Невского.

Буквенное обозначение карикуры	Год, в котором произошло событие, отраженное на карикатуре	Цифровое обозначение события, произошедшего за один год до событий, изображенных на карикатуре
А		
Б		
В		
Г		
Д		

А	1962	5
Б	1940	1
В	1943	10
Г	1946	6
Д	1918	3

13. Решите кроссворд

По горизонтали

Договор, соглашение, в Древней Руси
(ряд)

Название реки, где русские князья потерпели поражение

Представитель монгольского хана, отвечавший за сбор дани и учет населения завоеванных земель
(баскак)

Легендарный автор наиболее раннего из дошедших до нас летописных сводов
(Нестор)


Река, где происходит действие



(Березина)

Вольный человек, входивший в вооружённую дружину, снаряжавшуюся новгородскими купцами и боярами
(ушкуйник)

Один из первых варяжских киевских правителей



(Дир)

Назовите город, куда этот московский князь хотел перенести столицу



(Коломна)

Архитектурный стиль



(конструктивизм)

Автор одной из редакций «Домостроя» XVIв.


(Сильвестр)

Древнерусское название города, стены которого изображены на данной картине



(Царьград)

Христианское имя князя, по повелению которого воздвигнут данный собор



(Георгий)

Имя русского великого русского путешественника



(Пржевальский)

Анархист, один из ведущих деятелей Первого Интернационала
(Бакунин)

Русское название оружия



(рогатина)

Процесс ускоренного социально-экономического перехода от традиционного этапа развития к преобладанию промышленного производства в экономике.

(индустриализация)

Фамилия руководителя коммунистической партии СССР и советского государства, при котором создан плакат



(Сталин)

12. Советский скульптор, автор данного



(Вучетич)

Автор фасада музея



(Васнецов)

Улус, которому подчинялись русские княжества

(Джучи)

Командир экипажа самолёта, совершившего в 1937 году первый беспосадочный перелёт через Северный полюс из Москвы в Ванкувер



(Чкалов)


Автор плаката



(Кукрыниксы)

Название пилотируемой орбитальной станции, созданной в СССР
(Салют)

Московский иконописец XVIIвека



(Ушаков)

Город, где находится памятник



(Пловдив)

10 КЛАСС.

История.

Часть Б.

Задание 1.

Прочитайте текст повести, датируемой первой третью XVII века, и выполните предложенные задания.

В лѣто 7063 году месяца июля в 29 день на память святого мученика Калинника царь и великий князь Иванъ Васильевич всеа России своими рускими воеводами взял Смоленськ-град. А стоял под градом три годы, занеже крѣпок град деревяной бысть и острог. Не домысляше, како — приступом или подкопы — взят. И бысть Смоленска-града из болшей пушки стрѣлили, и прииде пушечное ядро и сорва маковицу от церкви Преображенья Спасова, и поставивъ маковицу зле шатер царевъ, да едва в шатрѣ царя маковицей не убило. Царь же разгнѣвася и заповѣда в той церкви не служить до скончания. И на утрии же другаго дни приѣхав посланник от тверскаго архиепископа Еуфимия, привезѣ замок и ключ и писание от архиепископа написано: «Благословляю тя, царю, и замыкай тем замком и отмыкай ключем Смоленськ-град». Царь же воспалився и ярости

наполнился и повелѣ того посланника казнить и предать его смерти. А по архиепископа тверскаго скоро послал немилостива гонца и повелѣ его скована привести и злой смерти предати, занеже под градом три годы стоя и много крови пролье, рускаго воинства паде и казны истощив, а не можаху никако ж града взять. «А он, архиепископъ, мнѣ, царю, посмѣявся, велить град замыкать». И божию помощию Смоленска-града в третий день людие посидѣльцы град отворили и здалися царю гладные ради великие нужы. И государевы воеводы во град ехав, град взяли. Царь же той вины тверскому архиепископу отдаша, славя Бога и пречистую его Богоматерь.

1. Ученые и современные специалисты по истории средневековой Руси считают, что описанное в повести событие не имело места. Какими доводами можно обосновать данную точку зрения?
2. Какие черты повествования носят фольклорный характер?
3. Каковы причины написания именно такого произведения в первой половине XVII века.

Задание 2. Рассмотрите картину и выполните предложенные задания.



1. Назовите священнослужителя, изображенного на данной картине.
2. Укажите год, когда происходили события, изображенные на картине. Обоснуйте свой ответ.
3. Укажите место, где происходят события, изображенные на картине.
4. Чего добиваются люди, пришедшие к священнослужителю?
5. Как называется период русской истории, когда происходили события, изображенные на картине. Назовите три события, которые можно считать его окончанием?

Задание 3.

1. Прочитайте фрагмент стихотворения К. Случевского. О каком историческом событии идет речь?

Сияет копий лес колючий,
Повозку царскую везут;
За нею колокол певучий
На жердях гнущихся несут.

2. Прочитайте фрагмент стихотворения А.Городницкого. О какой исторической личности идет речь? Ответ обоснуйте.

Лошади по городу цок-цок,
А перед каретою цуг, цуг,
Жалован Ижорою герцог,
Государю Петеру друг, друг.
Государю Петеру камрад,
С голубою лентою камзол.
Если хама плетию - хам рад,
Ежели молебеном - хам зол.

3. Прочитайте фрагмент стихотворения Б. Кочеткова. О каком историческом событии идет речь? Ответ обоснуйте.

Столкнулись воины сторон.
Все бились храбро и умело.
Данило, князь, был ранен в грудь,
но бился с врагом за честь и смело.
Но дрогнул половецкий хан,
Ярун пустился в бегство
и смял ряды князей дружин.
Повисло в воздухе бесчестье.

Вся многоглавая орда,
под свист летящих стрел и горла звуки,
помчалась на Мстислава, Яруна,
как волчья стая на коня в степи,
на запах крови, ран и муки.

4 задание.

Внимательно рассмотрите представленные иллюстрации.

1. Внесите во второй столбец таблицы, имена правителей в соответствии с буквенными обозначениями представленных портретов.

2. Занесите в третий столбец таблицы цифровые обозначения изображений, непосредственно связанных с правлением каждого из правителей.

3. В четвертом столбце прокомментируйте каждое изображение, объяснив, как оно связано с данным правителем.



A.



Б.



В.



Г.



1.



2.



3.



4.



5.



6.



7.



8.



9.



10.



11.



12.

A.			
Б.			
В.			
Г.			